

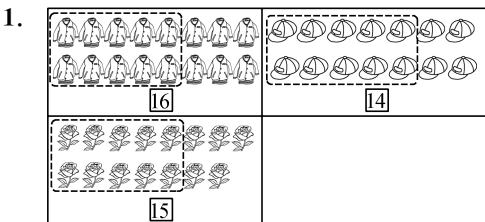
一年级数学(下册)同步练习、课堂练习及单元素养综合练习 参考答案

《同步练习》参考答案

第一单元 20 以内数与加法

古人计数(一)

▶ 达标训练



2. 一 十 一 2 20

3. 16 15 18 17

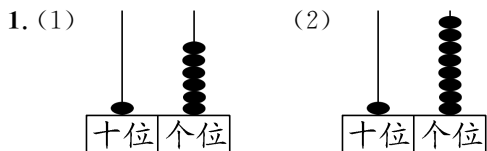
4.

▶ 拓展训练

②

古人计数(二)

▶ 达标训练



16

18

2. 14 17 10 20 19 16 13 15

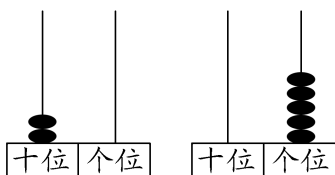
3. < > > <

4. (1) 个 十 (2) 13 (3) 8 1

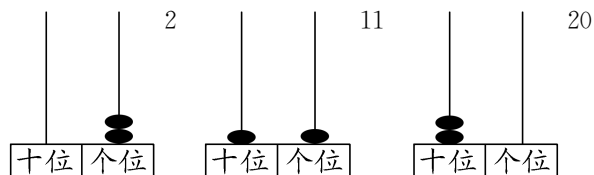
(4) 18 16 15 12 18 20

(5) 10 9 11 (6) 20 8, 15, 11

5. 11 10



▶ 拓展训练



搭积木

▶ 达标训练

1. 18 10 16 19 11 12 18 16

2. (1) $13+4=17$ (2) $18-5=13$

3. (1) $10+6=16$ $16-6=10$

(2) $14+4=18$ $18-4=14$

(3) $11+5=16$ (4) $16-4=12$

4. $14+5=19$ $14+2=16$

$14+3=17$ $5+2=7$

$19-7=12$ $19-9=10$

$19-3=16$ $9-7=2$

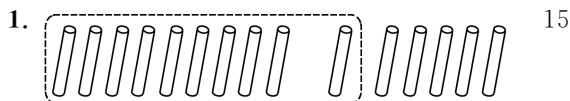
▶ 拓展训练

1. $3+1+13=17$

2. 19

开心农场

▶ 达标训练



2. (1) 13 (2) $8+2=10$ $10+3=13$

3. 8 4 停车场一共有多少辆车 $8+4=12$

4. (1) $5+7=12$ (2) $8+3=11$



5. $8+6=14$ $14 < 15$ 不够

▶ 拓展训练

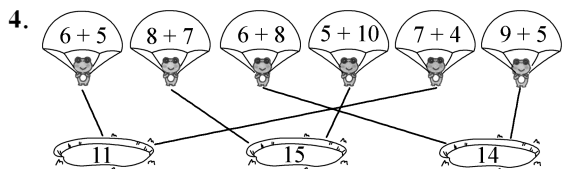
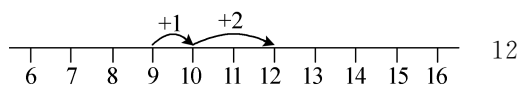
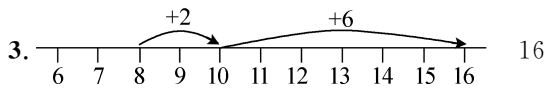
18

一起做家务

▶ 达标训练



2. (1) 7 14 (2) $7+5=12$



5. 一共钓了多少条 $6+6=12$

► 拓展训练

6 7 13

小兔子安家

► 达标训练

1. 11 11 13 15

1 5 1 3 3 5

2. $2+10=12$ $3+9=12$ $5+7=12$ $8+4=12$

3. $8+5=13$

4. 11 12 13 10 11 12 10 11 12
多 1

► 拓展训练

$9+8=17$ $4+7=11$

做个加法表

► 达标训练

1.	11	$9+2$	$8+3$	$7+4$	$6+5$	$5+6$	$4+7$	$3+8$	$2+9$
	12	$9+3$	$8+4$	$7+5$	$6+6$	$5+7$	$4+8$	$3+9$	
	13	$9+4$	$8+5$	$7+6$	$6+7$	$5+8$	$4+9$		
	14	$9+5$	$8+6$	$7+7$	$6+8$	$5+9$			
	15	$9+6$	$8+7$	$7+8$	$6+9$				
	16	$9+7$	$8+8$	$7+9$					
	17	$9+8$	$8+9$						
	18	$9+9$							

相同 1 多

2. 从左到右: 13 14 15 16 17 18 19

11 13 15 17 19

3. $9+3=12$ $5+6=11$

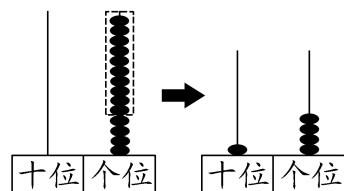
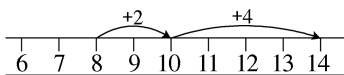
► 拓展训练

7 8

整理与复习

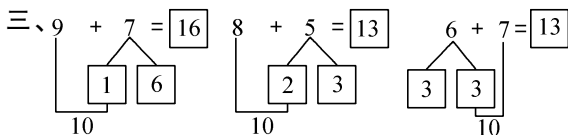
一、9 — 1 9 18 20 9 1

二、14



14

4 4



四、16 13 12 11 12 14

五、① ③ $4+8=12$

六、8 12 2 7(灵活) 11(灵活) 9+9(灵活)

第一单元综合练习

一、14 18 16 20

二、1. 19 2. 15 17

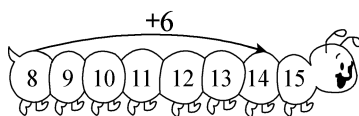
3. 十 1 十 个 1 —

4. (1) 15 11 (2) 10 15

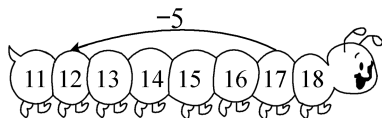
5. 6 8 6. 6 8

三、> > = = < >

四、14



12



五、1. $9+6=15$

2. $5+7=12$

六、1. $8+7=15$ 2. $15-3=12$

七、1. ① ②

2. $6+8=14$ (个)

八、13 13 7 13 10 3 13



九、 $2+9=3+8=4+7=5+6$



十、 $8+5+1=14$

第二单元 图形大变身(一)

做一做

▶ 达标训练

1.  

2.  



3. 小猫 (图略)

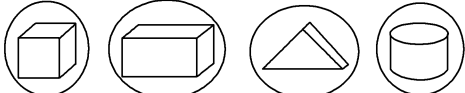
▶ 拓展训练


(√) () (√) (√)

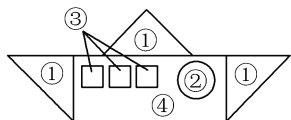
找一找

▶ 达标训练

1.  

2. 

3. 



4. 

▶ 拓展训练


1. ③ 2. ②

影子剧场

▶ 达标训练


1.  

2.




小鹿 小兔子 啄木鸟 天鹅

3.



小树开花了 小树结果了 小树长高了 种子发芽了

4.



影子小 离灯光远一些 影子大 离灯光近一些



▶ 拓展训练

$6+9+1=16$

综合实践

设计教室装饰图

▶ 达标训练

1. (1) 乐 (2)  (3) 

2. (1) △ (2) ○

3. (1) (√)

4. (1) △○○△○○ (灵活)
(2) 1223 1223 1223 (灵活)

▶ 拓展训练

(灵活)

1. ★☆☆☆☆☆☆☆☆☆☆☆☆☆☆

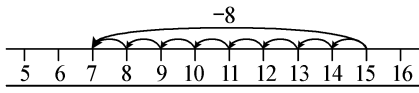
2. △△△△△△△△△△△△△△

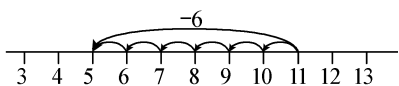
3. 

第三单元 20以内数与减法

买文具

▶ 达标训练

1. 7 

5 

2. (1) 13 $13-8=5$ $13-5=8$
(2) 13 $13-9=4$ $13-4=9$

3. (1) $15-7=8$ (2) $12-8=4$

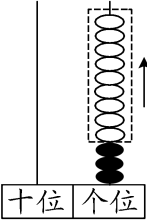
4. $14-5=9$

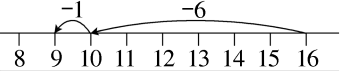
▶ 拓展训练

2

捉迷藏

▶ 达标训练

1. (1) 

(2) 

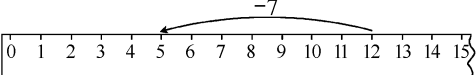
2. (1) $12-8=4$ (2) $13-6=7$
 (3) $7+9=16$ $16-7=9$
 (4) $6+8=14$ $14-6=8$
3. 9 6 6 7 7 9 8 5
 8 8 9 8

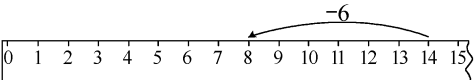
▶ 拓展训练

1. 16 9
 2. 14 5 6

凑数游戏

▶ 达标训练

1. (1) 5 

(2) 8 

2. 2 8 6 5
 10 1 1 2 10 4 4 5
3. 左: 9 8 7 大 小 右: 6 8 9 大 大
4. $14-6=8$

▶ 拓展训练

2

开会啦

▶ 达标训练

1. 小鸭: ○○○○○○○○○○○○○○
 帽子: △△△△△△△△
 $7+5=12$ $12-7=5$
2. $\begin{cases} 5 \\ 5 \end{cases} \begin{cases} 6 \\ 6 \end{cases} \begin{cases} 7 \\ 7 \end{cases} \begin{cases} 5 \\ 5 \end{cases}$
3. $11-6=5$
4. (1) $14-8=6$
 (2) 每只小猴 1 个桃, 还差几个桃 (灵活)
 $14-6=8$ (个)

▶ 拓展训练

8

跳伞表演

▶ 达标训练

1. (1) 5 $11-6=5$ (2) 5 $11-6=5$
 2. (1) $12-5=7$ (2) $11-7=4$
 3. (1) $14-7=7$ (2) $15-6=9$
 4. 11 7 5
 (1) $11-5=6$
 (2) $11-7=4$

▶ 拓展训练

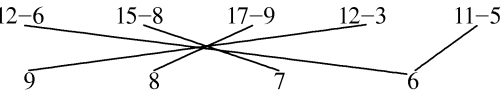
$4 < 6$ 浩浩 $6-4=2$ 2

试一试

▶ 达标训练

1. 11 6 5
 (1) $11-6=5$ (2) $6-5=1$

2. (1) $12-8=4$ (2) $16-8=8$

3. 

4. 左: 8 8 8 右: 4 4 4
 不变
 示例: $11-4=7$ $12-5=7$ $13-6=7$

▶ 拓展训练

4 2 4

美丽的田园

▶ 达标训练

1. (1) 4 6 13 (2) 9 $13-4=9$
 (3) 7 踢毽子的比跳格子的多几人
 (4) 跑步的和踢毽子的共有多少人 (灵活)
 $4+13=17$ (人)
2. (1) $14-6=8$ (2) $12-3=9$
3. (1) 女生比男生多几人 (灵活)
 (2) 送给同学 8 个 (灵活)

▶ 拓展训练

8

做个减法表

▶ 达标训练

1.

$5+7=12$
$7+5=12$
$12-5=7$
$12-7=5$

$6+8=14$
$8+6=14$
$14-6=8$
$14-8=6$

2. 竖排: 9 8 7 6 8 7 6 5
 5 6 7 8 多(少) 少(多)

3. $12-6$ $15-9$ $13-9$ $14-8$

4. $\begin{cases} 15-7 \\ 14-6 \end{cases}$ $\begin{cases} 13-6 \\ 12-5 \\ 11-4 \end{cases}$ $\begin{cases} 17-8 \\ 16-7 \\ 15-6 \end{cases}$

►拓展训练

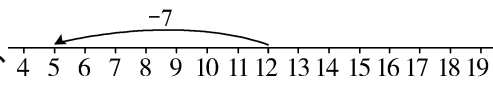
$15-9=14-8=13-7=12-6=11-5$

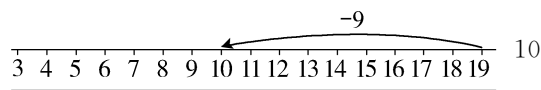
整理与复习

- 一、4 6 9
10 2 3 4 10 5
- 二、15 8 16 7 6 13 8 11
11 7 12 9
- 三、1. $12-8=4$ 2. $12-6=6$
- 四、1. $12-5=7$

2. 二组和三组一共多少人 $3+5=8$

第三单元综合练习

- 一、1. 12 12 9 3
2. $6+8=14$ $8+6=14$
 $14-6=8$ $14-8=6$
- 二、 5



- 三、4 5 9 9 7 8 6 5
- 四、8 12 7 6 6 8
- 五、 $\begin{cases} 7+5 \\ 14-7 \\ 3+6 \\ 15-9 \\ 10-2 \end{cases}$
 $\begin{matrix} \swarrow & \searrow & \swarrow & \searrow & \swarrow & \searrow \\ 13-5 & 19-7 & 13-6 & 13-4 & 11-5 \end{matrix}$

- 六、1. $12-6=6$ 2. $11-4=7$
3. $13-5=8$ 4. $15-8=7$
- 七、1. 11 4 7 2. 7 11-4=7
3. 18 $11+7=18$

- 八、1. $16-8=8$
2. (1) 8 6 12 (2) $8+6=14$
(3) 踢足球的比踢毽子的多几人?
(4) 踢足球的比跳绳的多几人(灵活)
 $12-6=6$

第四单元 100以内数的认识
身边的数

►达标训练

1. (1)十六 (2)四十 (3)五 五 三十
2. (1)三十五 三十六 三十七
(2)八十 七十九 七十八
(3)六十 八十
3. 三十六 三十八 五十一

►拓展训练

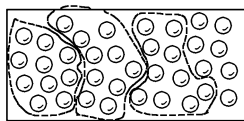
1. 三十六 八十 九十
2. 三十六 五十

数一数

►达标训练

1. 六十八 五十二 四十四
2. (1)九十七 九十八 九十九 一百
(2)二十三 二十五 二十七 二十九
(3)七十 七十五 八十 八十五
(4)四十八 五十八 六十八 七十八
3. (1)九十六 四十 (2)八十六 十四
4. 二十六 二十四 说一说略

►拓展训练

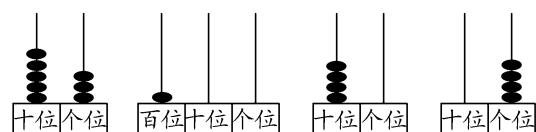


3 7

数豆子

►达标训练

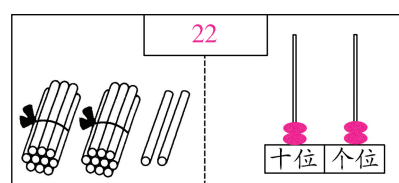
1. 3 8 38 5 7 2 3 32
2. (1)个 十 百 (2)88 90 (3)57 3
(4)6 4

3. 

(53) (100) 40 4

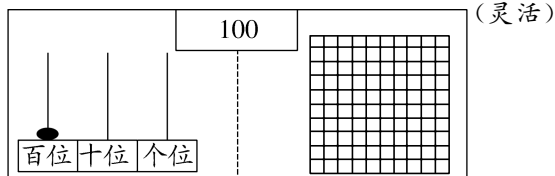
(五十三) (一百) (四十) (四)

4. 十 3 十 个 3 一

5. 

22

十位 个位



100

百位 十位 个位

(灵活)

►拓展训练

66

谁的红果多

►达标训练

1. $20>7$ $42>38$ $52<55$
2. (1)10 29 55 100 5 4 5 6 (部分答案
灵活)
(2)80 85 88 90 92 99

3. 28, 49, 34, 23, 15
62, 87, 76, 51, 55, 94

4. (1)46 (2)99

►拓展训练

1. 5 58, 59, 60, 61, 62
2. 96 46

小小养殖场

►达标训练

1. 多得多 多一些 少得多 少一些
2. 19元(✓) 24元(△)
3. 23
4. 16秒(✓)

►拓展训练

冬冬 明明 朵朵

试一试

►达标训练

1. 上:17 42 57 86 下:80
17 42 57 80 86
2. 61下(○) 98下(✓)
3. 44本(✓)
4. 90(○)

►拓展训练

71

做个百数表

►达标训练

31	32	33	34	35	36	37	38	39	40
41	42	43	44	45	46	47	48	49	50
51	52	53	54	55	56	57	58	59	60
61	62	63	64	65	66	67	68	69	70

- (1)1 10 (2)如上表 (3)35, 44, 53, 62

2. 41 51 91 84 82 80 78

3.

36	37	38	14	78	79	80	
46	47	48	23	24	25	89	90
56	57	58	34			100	

►拓展训练

24 35 46 44 55 66

整理与复习

- 一、1. 5 2 52 2. 97 3

- 二、1. > > < > >

2. 33 56 30 89 100 (部分答案灵活)

- 三、95 75 45 35 38 40 44

- 四、1. 28(✓) 2. 80(○)

- 五、82个(○) 28个(✓) 30个(△)

第四单元综合练习

- 一、1. 3 4 34 4 6 46 5 2 52

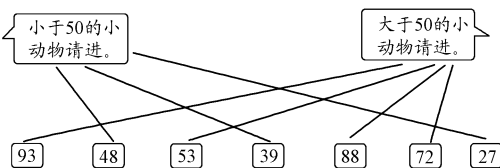
2. 58 60 99 3. 39 86 91 64 99 (灵活)

4. (1)73 83 (2)93 91 (3)80 85
(4)66 77

5.

78	79	80	32	33	34
88	89	90	42	43	44
98	99	100	52	53	54

二、



- 三、27 42 72 93 100

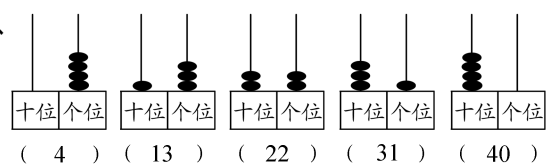
- 四、27 100 10 99

- 五、1. 23张(○) 80张(✓) 2. 34个(○)

3. 45人(✓)

- 六、26 < 28 < 62 < 68 < 82 < 86

七、



数学好玩

填数游戏

►达标训练

1. (1)

2	3	1
3	1	2
1	2	3

(2)

1	3	2	4
2	4	3	1
4	2	1	3
3	1	4	2

(3)

1	4	2	5	3
5	3	1	2	4
4	2	5	3	1
2	1	3	4	5
3	5	4	1	2

3	4	5	1	2
2	3	1	4	5
4	5	2	3	1
1	2	3	5	4
5	1	4	2	3

2.

祖	爱	国	热
爱	祖	热	国
热	国	爱	祖
国	热	祖	爱

3. 1 3

►拓展训练

4	9	2
3	5	7
8	1	6

第五单元 100 以内数加与减(一)

小兔请客

▶ 达标训练

1. (1) $40+10=50$ (2) $90-50=40$

2. 加数: 40 和: 50 60

被减数: 70 差: 40 10

3. (1) $20+30=50$

(2) $80-50=30$

4. 小新和小兰一共折了几颗幸运星(灵活)

$30+50=80$

▶ 拓展训练

1. 10 40 30

2. $20+50-30=40$ (或 $30+40-20=50$)

采松果

▶ 达标训练

1. (1) $31-5+4=1$ $30+1=31$

(2) $72-70+70+2=72$

(3) $44+5=49$ (4) $72-50=22$

2.

28	72	65	56
46	9	92	38

3. (1) $25-4=21$ (2) $25+4=29$

4. (1) $24+20=44$ (2) $44-30=14$

▶ 拓展训练

39

青蛙吃虫子

▶ 达标训练

1. (1) $55-34=21$ (2) $45+44=89$

2. $43+35=78$

3. $45-25=20$

4. (1) $23+24=47$

(2) 声母比韵母少多少个

(或韵母比声母多多少个)

$24-23=1$

▶ 拓展训练

1. 49 2. 31

算一算

▶ 达标训练

1.

86	43	39	13
65	68	4	85
+21	-25	+35	-72
86	43	39	13

2.

×	52	×	36	或	36
+4		+23	-23		
56		59	13		

3. $46-32=14$

4. (1) $24+24=48$ (2) $48-25=23$

▶ 拓展训练

8	5
-4	3
4	2

8	8
-7	8
1	0

4	4
+4	5
8	9

3	5
+3	2
6	7

有趣的算式

▶ 达标训练

1. (1) 12 23 34

$45+22=67$ $56+22=78$

(2) 22 22 22

$54+22=76$ $65+22=87$

2. (1) 99 99 33 99 $56+43=99$

(2) 25 25 32 25 $67-42=25$

3. $17+71=88$ $26+62=88$ $35+53=88$

▶ 拓展训练

1. 25 2. 27

回收废品

▶ 达标训练

1. (1) $\triangle\triangle\triangle\triangle\triangle\triangle\triangle\triangle\triangle\triangle\triangle$ $8+3=11$

(2) $\bigcirc\bigcirc\bigcirc\bigcirc\bigcirc\bigcirc\bigcirc\bigcirc\bigcirc\bigcirc$ $12-2=10$

2. $42+6=48$

3. $38-8=30$

4. (1) $11-2=9$

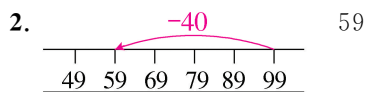
(2) $9+6=15$

▶ 拓展训练

41

整理与复习

一、1. $30+25=55$



二、 $< = > > < >$

三、

31	87	16	29
56	63	88	6
-25	+24	-72	+23
31	87	16	29

四、1. $36-32=4$ (元)

2. $42+34=76$ (元) $76<80$ (灵活)

3. 一顶帽子比一个笔袋多多少钱?(灵活)

$34-12=22$ (元)

第五单元综合练习

一、80 36 84 66 50 72 16 45

二、

51	86	68	40	8	69
-35			+28		-61
51			68		8

三、 $35+14$ $57-17$ $42+15$ $78-32$

$31+26$ $34+12$ $95-55$ $79-30$

四、 $=$ $>$ $>$ $<$ $<$ $=$

五、1. ○○○○○○○○○ $13-5=8$

2. △△△△△△△△△△△△ $6+6=12$

六、1. (1) $16+23=39$ (2) $46-30=16$

2. $48-22=26$

3. $35+44=79$

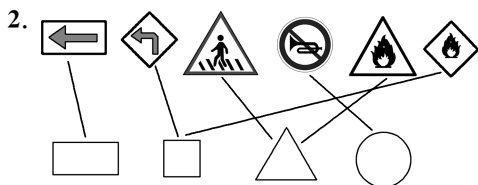
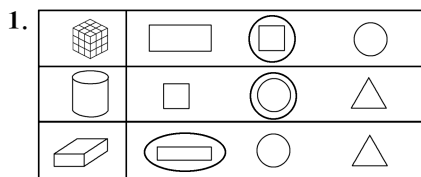
4. (1) $32-11=21$ (2) $32+6=38$

5. $26+20=46$ (灵活)

第六单元 有趣的平面图形(一)

认识图形

▶ 达标训练



3. ⑥⑦ ④⑤ ⑨ ②⑩

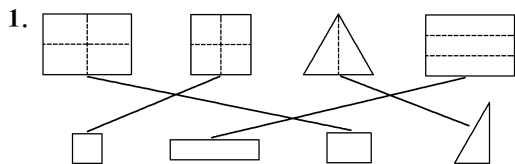
4. 5 5 3 3

▶ 拓展训练

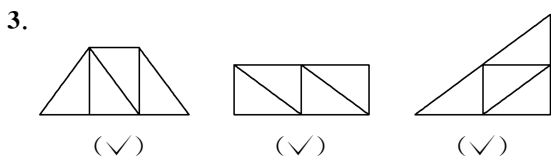
5. 7 5

动手做(一)

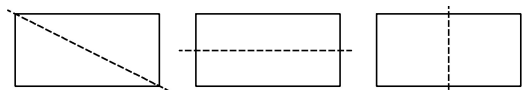
▶ 达标训练



2. (1) 正方 长方 (2) 正方 (3) 圆



▶ 拓展训练



动手做(二)

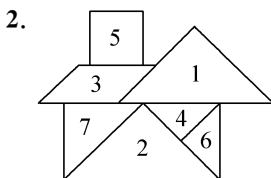
▶ 达标训练

1. (1) 7 三 1 1 5

(2) ① ② ④ ⑥

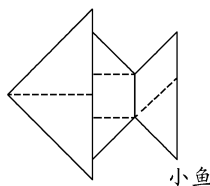
(3) C

(4) ⑤ ④ ⑥



3. 小狗 房子 花朵 人

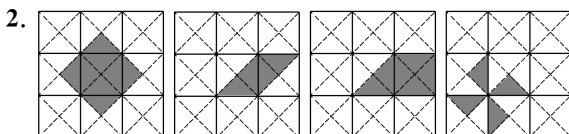
▶ 拓展训练



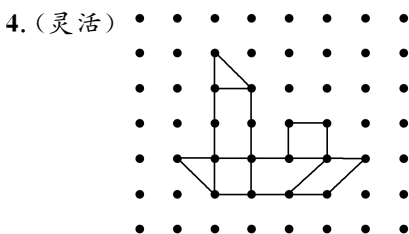
动手做(三)

▶ 达标训练

1. 4 5 2 4 5



3. ③

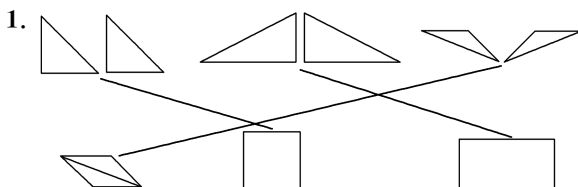


▶ 拓展训练



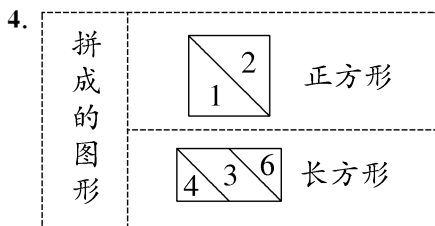
拼图大挑战

▶ 达标训练



2. (1) 4 6 (2) ②

3. (1) ② (2) ① (3) ③



► 拓展训练

6

第六单元综合练习

一、①③ ②⑥ ④⑦ ⑤⑧

二、1. ② ① ④ ③

2. (1) 三角 长方 正方 三角

(2) ① ③ ⑤

3. 4

4. 正方 长方 5. 正方

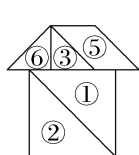
6. (1) 正方 3

(2) 正方 三角 平行四边

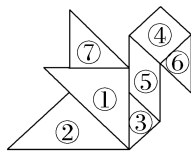
(3) 6

7. 2 4 2 4

三、1.



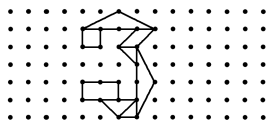
(房子)



(小鸟)



3. (灵活)



综合实践

画数学连环画

► 达标训练

$35 + 22 = 57$ $57 - 26 = 31$

► 拓展训练

(灵活)

总复习

数与代数(一)

一、1. 6 5 65 32 3 2 4 8 48

2. 92 8

3. 5个十 5个一

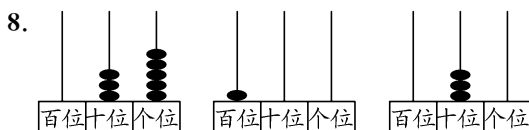
4. 6 93 23

5. 5 5 — 8 8 十

6. 89

7. $> > < <$

79 25 52 96 (灵活)



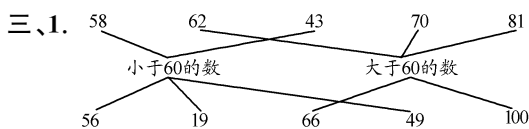
二、1. 38 40 44 46

2. 65 50 45 40 35

3. 53 73 83 93

4.

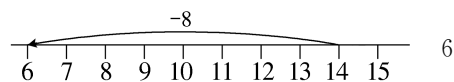
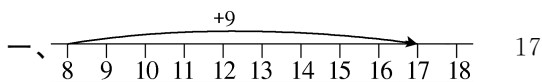
36	37	38	58	59	60	30	31	32
46	47	48	68	69	70	40	41	42
56	57	58	78	79	80	50	51	52



2. 17张(△) 35张(○)

3. 74页(√)

数与代数(二)



二、 67 15 22 47

$\begin{array}{r} 15 \\ + 52 \\ \hline 67 \end{array}$	$\begin{array}{r} 28 \\ - 13 \\ \hline 15 \end{array}$	$\begin{array}{r} 65 \\ - 43 \\ \hline 22 \end{array}$	$\begin{array}{r} 3 \\ + 44 \\ \hline 47 \end{array}$
--	--	--	---

三、 $< < = = < >$

四、1. $14 - 5 = 9$ 2. $14 - 8 = 6$

3. $40 + 52 = 92$ 4. $29 - 15 = 14$

五、1. 12 6 7

(1) $12 - 6 = 6$ (2) $12 - 7 = 5$

2. (1) $48 - 7 = 41$ (2) $41 + 20 = 61$

3. (1) 36 (2) ① ④

(3) 31

(4) 套中①比套中③能多得多少分(灵活)

$25 - 20 = 5$ (分)

数与代数(三)

一、1. 60 0 70 80 30 60 60 60

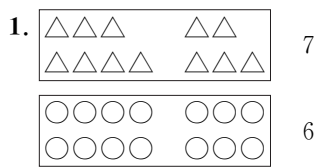
64 38 92 90 18 36 24 7

2. 79 22 27 3

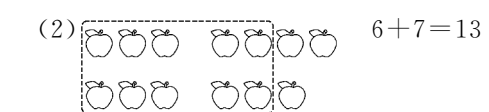
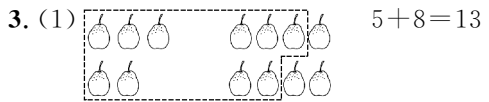
$\begin{array}{r} 53 \\ + 26 \\ \hline 79 \end{array}$	$\begin{array}{r} 78 \\ - 56 \\ \hline 22 \end{array}$	$\begin{array}{r} 5 \\ + 22 \\ \hline 27 \end{array}$	$\begin{array}{r} 46 \\ - 43 \\ \hline 3 \end{array}$
--	--	---	---

4. $\begin{cases} 17 \\ 17 \end{cases} \begin{cases} 13 \\ 13 \end{cases} \begin{cases} 15 \\ 15 \end{cases} \begin{cases} 12 \\ 12 \end{cases}$

7

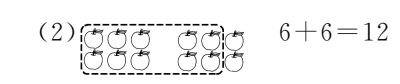
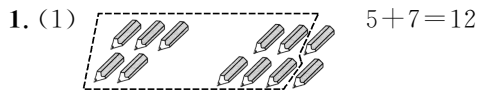


2. 12 14



4. $6+5=11$

8



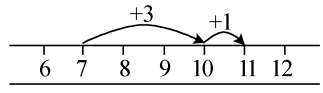
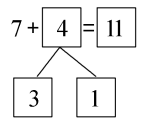
2. 红色: $8+6$ $7+7$ $9+5$
绿色: $7+4$ $9+2$ $10+1$

3. (1) 14 (2) 3 2 7 12

4. (1) 15 11 11 11 13 13 14 14
(2) 13 9 6 13 6 4 13 10

9

1. $7+4=11$
3 3 1



2. 12 10 15 17 11 15 11 12 11

3. 3 10 5 8 4 9 6 7



10

1. 13 13 15
3 3 3 2 1 5

2. 9 12 14 13 10

3. 左: 15 14 13 中: 13 12 11
右: 13 12 11
少 1

4. $5+8=13$ $8+8=16$

11

1. $6+5$ $4+7$
 $8+4$ $7+5$ $4+8$
 $9+4$ $5+8$ $4+9$
 $8+7$ $7+8$
 $9+7$ $7+9$
 $9+9$

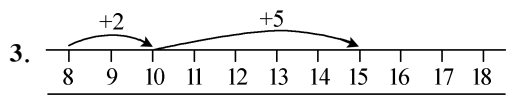
2. 11 12 13 6 14
16 15 14 6 13

3. 12 14 12 12 17 12 18 15
11 18 10 15



12

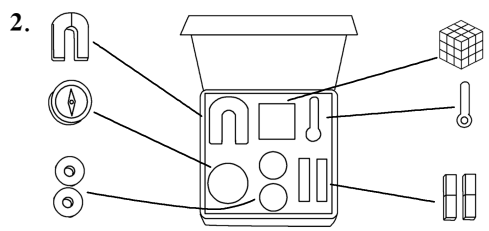
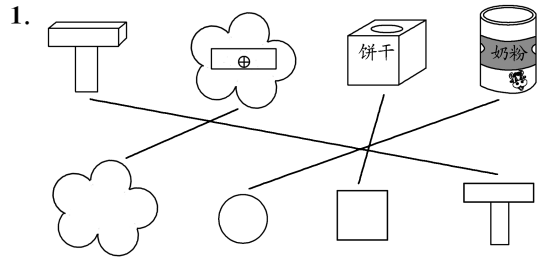
1. 11 11 18 16 14 13 16 11
2. (1) 17 (2) 17 19 (3) 1 4 (4) 1
(5) 55 65



15

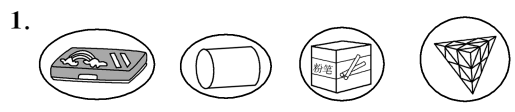
4. (1) $8+4=12$ (2) $17-3=14$

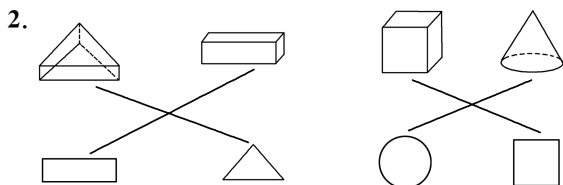
13



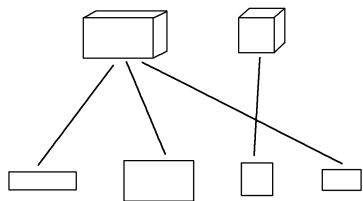
3. 房子 小船 鱼 太阳

14

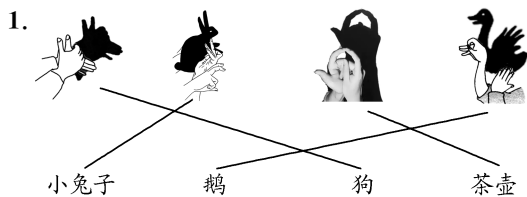




3. 正方 长方



15



2. 4 2 3 1

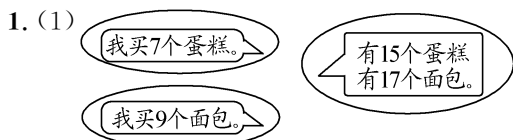
3. 大 小

16



3. (1) ③ (2) ②

17



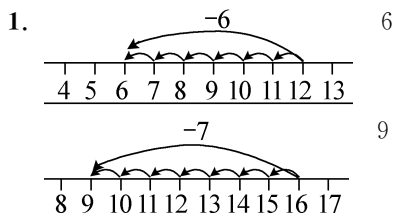
(2) $15 - 7 = 8$

8	5 3 3+5=8
2 10	10-2=8 8 8 8

(3) $17 - 9 = 8$

2. 6 9 8 6 9 8

18

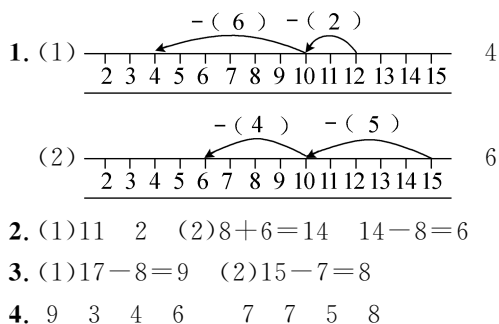


2. 4 4
 3. (1) $15 - 9 = 6$ $15 - 6 = 9$
 (2) $13 - 5 = 8$ $13 - 8 = 5$
 4. $14 - 6 = 8$

19

1. (1) 15 7
 (2) 8 5 8 10 8 8 8
 2. (1) $11 - 3 = 8$ (2) $17 - 9 = 8$


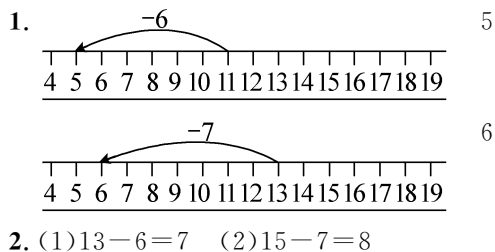
20



21

1. 9 9 8 8 7 7
 6 6 5 5 4 4
 2. 8 6 7
 3 10 1 10 4 3
 3. (1) $12 - 8 = 4$ (2) $14 - 9 = 5$

22



4. $< = > < > <$

23

1. 12 6 $12 - 6 = 6$
 2. (1) 4 $11 - 7 = 4$ (2) 4 $13 - 9 = 4$

24

1. 8 7 4 8 7 4
 2. 2 3 4 5 6 5 6 7 8 9
 3. 9 $17-8=9$
 4. $13-8=5$

25

1. 3 3 2. 11 6 5 5 $11-6=5$
 3. \triangle 3 $11-8=3$ 4. \circ 8 $14-6=8$
 5. (1) $12-6=6$ (2) $16-8=8$

26

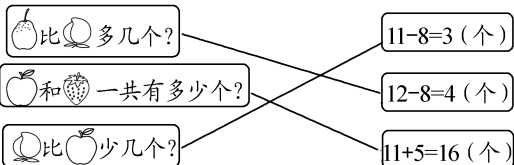
1. 6 4 7 7 7 9
 2. (1) $11-8=3$ $13-7=6$
 (2) $12-7=5$ $12-6=6$
 3. $13-8=5$

27

1. (1) 13 4 8 (2) $13-4=9$
 (3) 小鸟比小鸡多几只?
 (4) 小鸡比小狗多几只?(灵活)
 $8-4=4$ (只)
 2. (1) $11-3=8$ (2) $14-5=9$

28

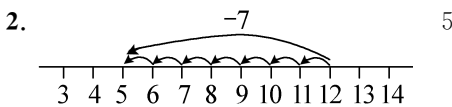
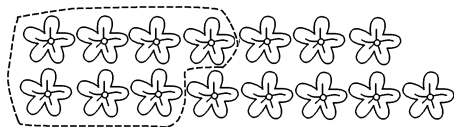
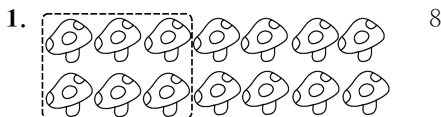
1. (1) $9+5=14$ (2) $13-5=8$
 (3) $12-4=8$ (4) $15-9=6$

2. 
- 苹果比西瓜多几个? $11-8=3$ (个)
 苹果和葡萄一共有多少个? $12-8=4$ (个)
 西瓜比苹果少几个? $11+5=16$ (个)

29

1. $10-4$ $10-5$ $10-7$ $10-8$
 $11-3$ $11-6$ $11-7$ $11-9$
 $12-3$ $12-5$ $12-8$
 $13-6$ $13-7$
 $14-6$ $14-8$
 $15-7$ $15-8$ $15-9$
 $16-7$
 $17-9$
 2. $12-3$ $11-2$ $14-5$
 3. 左: 5 6 7 8 右: 7 6 5 4

30



3. 11 4 5
 (1) 7 $11-4=7$ (2) 16 $11+5=16$
 (3) 6 $11-5=6$ (4) 9 $5+4=9$

31

1. (1) 四十九 五十 五十一
 (2) 七十 七十五 八十
 (3) 七十 九十
 2. (1) 二十六 (2) 五十五 (3) 六十四
 3. ②

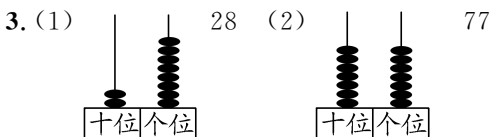
32

1. 八十三 六十九 三十七 八十八
 2. 10 一百 10
 3. 八 十六

33

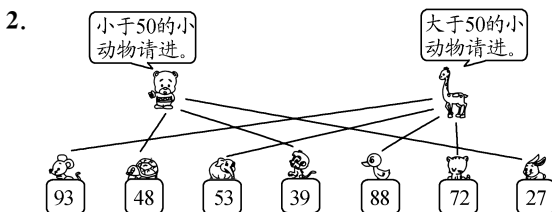
1. (1) 3 4 34 (2) 8 2 28
 (3) 5 2 52 (4) 7 5 75

2. 24 15 30 44



34

1. (1) $20 > 12$ $52 < 55$ $41 > 36$ $75 < 100$
 (2) $<$ $>$ $>$ $<$ $<$ $>$ $<$ $>$



35

1. (1) 35 55 70 100 > < >
 (2) 40 90 65 75 (灵活)
 (3) 小 大 左 右
2. < < < > < > < >
 > < = <
 24 79 87 55 20 61 34 100 (部分答案灵活)

36

1. (1) 桃子 苹果 (2) ③ ①
 2. 99
 3. 48 朵(✓) 45 朵(○)

37

1. (1) 16 35 51 65 72 86
 (2) $86 > 72 > 65 > 51 > 35 > 16$
 2. 30 颗(✓)



4. (1) $91 > 80 > 54 > 39$ (2) $47 < 63 < 75 < 100$

38

1. 1 3 5 7 9
 12 14 16 18 20
 21 23 24 25 26 27 29 30
 31 32 34 35 36 38 39 40
 41 42 43 45 47 48 49 50
 51 52 53 54 56 57 58 59 60
 61 62 63 65 67 68 69 70
 71 72 74 75 76 78 79 80
 81 83 84 85 86 87 89 90
 92 93 94 95 96 97 98 100
 (1) 3, 13, 23, 33, 43, 53, 63, 73, 83, 93
 (2) 20, 21, 22, 23, 24, 25, 26, 27, 28, 29
 (3) 49, 50, 51, 52

(4)

35	36	37
45	46	47
55	56	57

68	69	70
78	79	80
88	89	90

34	35	36
44	45	46
54	55	56

2. (1) 46 50 52 (2) 68 48 38
 (3) 45 75 85

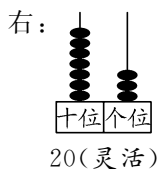
39

1. 20 26 30 34 65 85 90 95 100
- 2.
- | | | |
|----|----|----|
| 36 | 37 | 38 |
| 46 | 47 | 48 |
| 56 | 57 | 58 |
- | | | |
|----|----|----|
| 51 | 52 | 53 |
| 61 | 62 | 63 |
| 71 | 72 | 73 |
- | | | |
|----|----|----|
| 13 | 14 | 15 |
| 23 | 24 | 25 |
| 33 | 34 | 35 |
3. 26 36 46 56 66 76 86 96
 91 92 93 94 95 96 97 98 99
 23 34 45 56 67 78 89
4. 92 64 100 33 (灵活)

40

1. 33 50 26
 2. 100 98 96 30 40 55
 38 40 41 78 72 70

3. 左: 7 3



4. 76 分(○) 90 分(✓)

41

1. (1)
- | | | |
|---|---|---|
| 2 | 3 | 1 |
| 3 | 1 | 2 |
| 1 | 2 | 3 |
- (2)
- | | | |
|---|---|---|
| 1 | 3 | 2 |
| 2 | 1 | 3 |
| 3 | 2 | 1 |

- (3)
- | | | |
|---|---|---|
| 3 | 2 | 1 |
| 1 | 3 | 2 |
| 2 | 1 | 3 |

- 2.
- | | | | |
|---|---|---|---|
| 1 | 4 | 2 | 3 |
| 3 | 2 | 1 | 4 |
| 2 | 3 | 4 | 1 |
| 4 | 1 | 3 | 2 |
- | | | | |
|---|---|---|---|
| 3 | 2 | 4 | 1 |
| 2 | 1 | 3 | 4 |
| 4 | 3 | 1 | 2 |
| 1 | 4 | 2 | 3 |

- | | | | |
|---|---|---|---|
| 4 | 2 | 3 | 1 |
| 3 | 1 | 2 | 4 |
| 2 | 4 | 1 | 3 |
| 1 | 3 | 4 | 2 |
- | | | | |
|---|---|---|---|
| 3 | 2 | 4 | 1 |
| 2 | 1 | 3 | 4 |
| 1 | 4 | 2 | 3 |
| 4 | 3 | 1 | 2 |

42

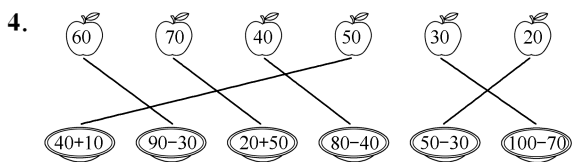
1. (1) $50 + 30 = 80$ 5 3 8 80
 (2) $80 - 40 = 40$ 8 4 4 40
2. $50 + 20 = 70$ $70 - 30 = 40$
 加数 加数 和 被减数 减数 差
3. 7 5 8 70 50 80
 6 7 2 60 70 20

43

1. $30+50=80$ $30-20=10$

2. $80-50=30$ $20+60=80$

3. 50 60 70 10 20 70



44

1. (1) 26 $3+3=6$ $20+6=26$

(2) 16 $50-40=10$ $10+6=16$

2. (1) $67-40=27$ (2) $54+4=58$

3. (1) $35+4=39$ (2) $35-4=31$

45

1. 61 27 51 90 40 16 77 38
68 9 54 30

2. (1) $31+7=38$ (2) $37-20=17$

(3) $40+16=56$

3. $78-50=28$

46

1. 46 42 $42+4=46$ 40 6 $40+6=46$
33 36 $36-3=33$ 30 3 $30+3=33$

2. 53 79 15 55 66 13

个 十 相同

47

1. $23+43=66$ $79-35=44$

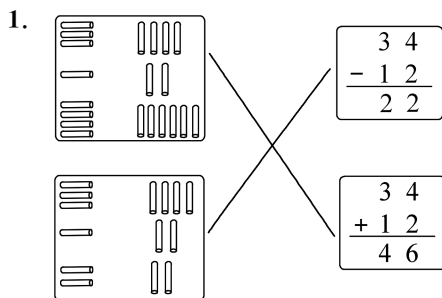
2. $56+32$ $72-40$ $38-25$ $53+25$

13 78 88 32

3. (1) $37-12=25$ (2) $52+16=68$

4. $69-53=16$

48

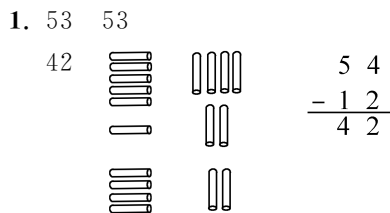


2. (1) 11 11 (2) 98 98

3. $59 \begin{array}{r} 34 \\ +25 \\ \hline 84 \end{array}$ $44 \begin{array}{r} 67 \\ -23 \\ \hline 44 \end{array}$ $34 \begin{array}{r} 76 \\ -42 \\ \hline 34 \end{array}$

4. $36-25=11$

49



2. $58 \begin{array}{r} 45 \\ +13 \\ \hline 71 \end{array}$ $41 \begin{array}{r} 77 \\ -36 \\ \hline 41 \end{array}$ $65 \begin{array}{r} 4 \\ +61 \\ \hline 65 \end{array}$

3. (1) $34+53=87$ (2) $45-12=33$

50

1. $22 \begin{array}{r} 58 \\ -36 \\ \hline 22 \end{array}$ $37 \begin{array}{r} 5 \\ +32 \\ \hline 37 \end{array}$ $85 \begin{array}{r} 62 \\ +23 \\ \hline 85 \end{array}$

2. $33 \begin{array}{r} 44 \\ +52 \\ \hline 96 \end{array}$ $55 \begin{array}{r} 42 \\ +62 \\ \hline 104 \end{array}$ $42 \begin{array}{r} 66 \\ -52 \\ \hline 14 \end{array}$ $21 \begin{array}{r} 22 \\ -52 \\ \hline -30 \end{array}$ $23 \begin{array}{r} 42 \\ -52 \\ \hline -10 \end{array}$ $42 \begin{array}{r} 24 \\ -52 \\ \hline -28 \end{array}$

3. 80 70 60 50 40 30 20 10

51

1. (1) $8 \quad 14-6=8$ (2) $11 \quad 8+3=11$

2. (1) $51-10=41$ (2) $51+6=57$

52

1. $33 \begin{array}{r} 87 \\ -54 \\ \hline 33 \end{array}$ $31 \begin{array}{r} 38 \\ -7 \\ \hline 31 \end{array}$ $38 \begin{array}{r} 6 \\ +32 \\ \hline 38 \end{array}$

2. (1) $\square\square\square\square\square\square\square\square \quad 11-3=8$

(2) $\bigcirc\bigcirc\bigcirc\bigcirc\bigcirc\bigcirc\bigcirc\bigcirc\bigcirc\bigcirc \quad 8+4=12$

3. $22+7=29$

4. $43-11=32$

53

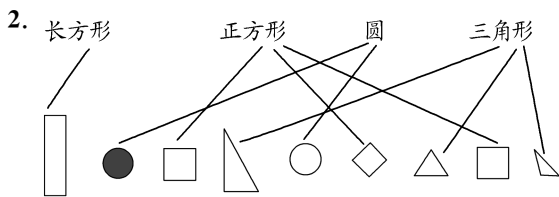
1. $96 \begin{array}{r} 32 \\ +64 \\ \hline 96 \end{array}$ $48 \begin{array}{r} 5 \\ +43 \\ \hline 48 \end{array}$ $25 \begin{array}{r} 78 \\ -53 \\ \hline 25 \end{array}$

2. $> = > >$

3. (1) $51+8=59$ (2) $32-30=2$

54

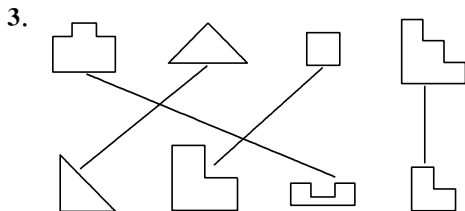
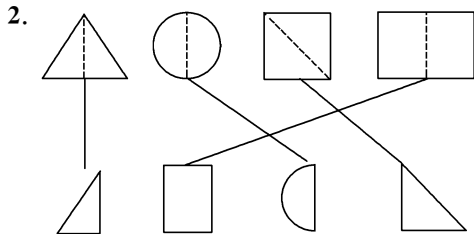
1. ② ① ④ ③



3. 2 4 6 3

55

1. ③⑦ ①④ ②⑤ ⑥

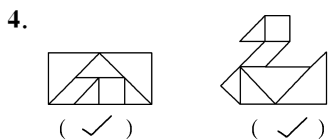


56

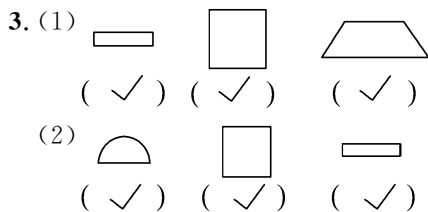
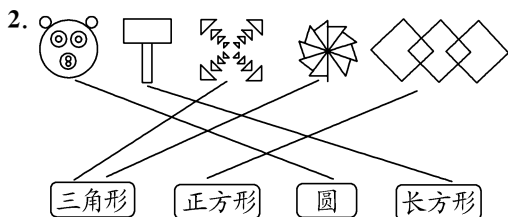
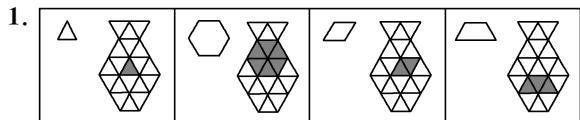
1. ⑤ ①②④⑥⑦ 5 ③ ① ②

2. ④⑤⑥ ①②④⑤⑥⑦

3. 小狗 上衣 小鸟 小猫



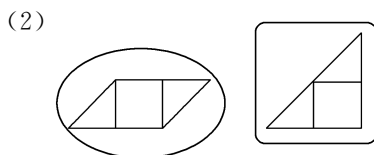
57



58

1. (1)6 (2)5 (3)4

2. (1)④ ⑥ ⑦



59

1. 7 12

2. 他们一共摘了多少个桃?

3. $7+12=19$ (个)

4. 乐乐比淘淘多摘了多少个桃?

$12-7=5$ (个)

60

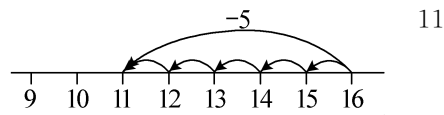
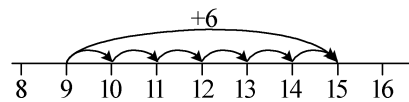
1. 3 4 34 6 4

2. $> = > <$

3. (1)40 45 (2)70 60 (3)33 55

(4)80 76

4.

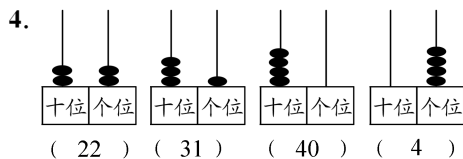


61

1. (1) $13-4=9$ (2) $12-5=7$

2. 70岁(✓)

3.



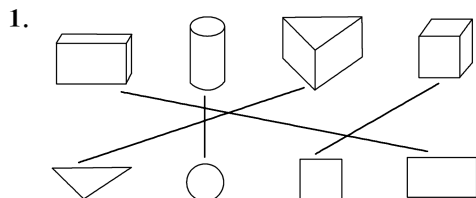
62

1. $59 + 25 = 84$ $39 + 34 = 73$ $5 + 34 = 39$ $52 + 78 = 130$ $78 - 26 = 52$

2. $58-36=22$

3. (1)第二名 第三名 第四名 第一名
 (2)12
 (3)第四名比第二名少得多少分?(灵活)
 $98-76=22$ (分)

63

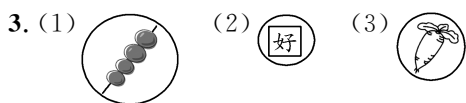
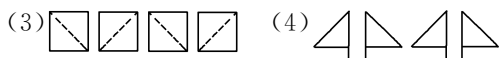
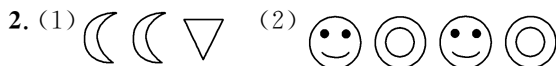
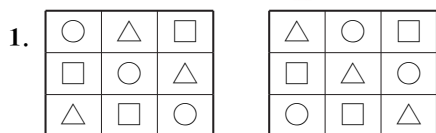


2. 2 7 5 9

3. (1)3 5 (2)② ④ ⑥

(3)三角(或正方、平行四边)

64



《单元素养综合练习》参考答案

第一单元素养综合练习

- 一、1. 12 14 15 20

2. 16 3. 14 16 4. 20 5. 3

6. 10 12 13 16 12 10

7. 15 8. 16 9. 19

二、1.

$$\begin{array}{c} 5+8=13 \\ \begin{array}{|c|c|} \hline 3 & 2 \\ \hline \end{array} \end{array}$$

$$\begin{array}{c} 9+6=15 \\ \begin{array}{|c|c|} \hline 1 & 5 \\ \hline \end{array} \end{array}$$

$$\begin{array}{c} 4+9=13 \\ \begin{array}{|c|c|} \hline 3 & 1 \\ \hline \end{array} \end{array}$$

2. 11 13 18 15 14 17 10 12

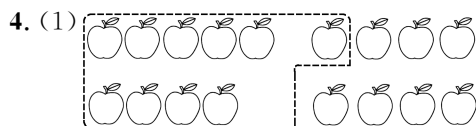
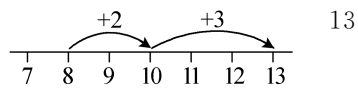
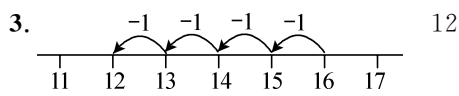
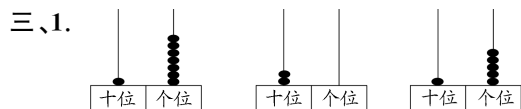
- 11 12 16 16

3. < > > > < =


4. 15 6 10

- 11 8 13 (灵活)

5. $\begin{cases} 9+4 \\ 10+3 \end{cases}$ $\begin{cases} 9+2 \\ 7+4 \end{cases}$ $\begin{cases} 8+6 \\ 6+8 \end{cases}$ (灵活)



$$9+8=17$$



$$7+5=12$$

- 四、1. $10+5=15$ $15-5=10$

2. (1) $6+6=12$ (2) $17-6=11$

- 五、1. 7 4 11 $7+4=11$

2. $14-4=10$

3. 8 $19-8=11$

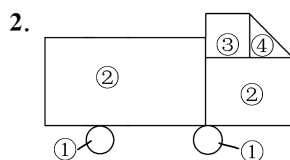
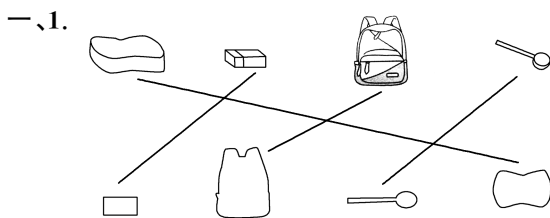
4. $7+6=13$

5. (1) $4+7=11$

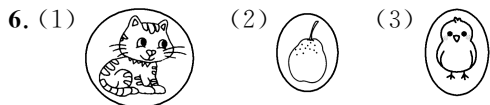
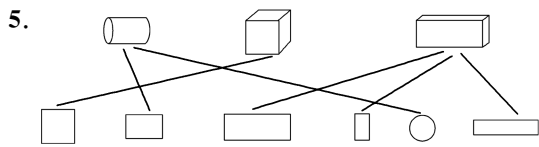
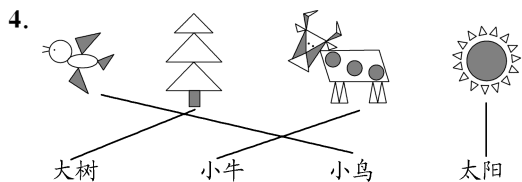
- (2)小红和小华一共拍了几下(灵活)

$$9+7=16$$

第二单元素养综合练习



影子大 离灯光近一些 影子小 离灯光远一些



7. (1) ☆ ☆ △ (2) △ ○ ○

二、1. ① 2. ② 3. ③ 4. ① 5. ②

三、1. 10 11 15 14 16 11 12 14
16 15 12 13

2. 4 7 7 7 3 7

3. 6+6 4+8 5+7 10+2

四、1. 19-4=15

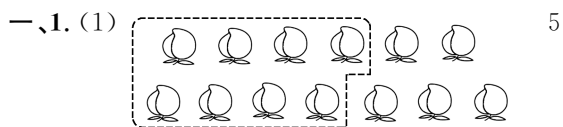
2. 9 6 15 9+6=15

3. 8+7=15

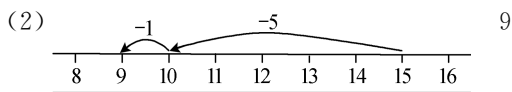
4. (1) 9+5+4=18

(2) 18-8=10

第三单元素养综合练习



5



9

2. $12 - 7 = \boxed{5}$ $14 - 6 = \boxed{8}$ $16 - 9 = \boxed{7}$

3. 9 4 11 7 3 8 6 8
11 9 9 6 8 18 6 7

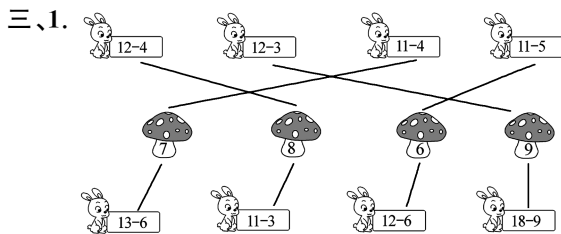
二、1. = < > > > <

2. 8 7 1 12 2 7

3. 12 13 6 14 7 15 8
9 7 7 10 4 11 3

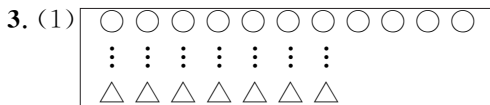
4. 6+8=14 14-6=8

8+6=14 14-8=6



2. 13 8 4

(1) 9 $13 - 4 = 9$ (2) 12 $4 + 8 = 12$



(2) $11 - 7 = 4$

四、1. $9 + 5 = 14$ 或 $5 + 9 = 14$

$14 - 5 = 9$ 或 $14 - 9 = 5$

2. $5 + 7 = 12$ 3. $13 - 5 = 8$

4. $14 - 5 = 9$ 5. $12 - 5 = 7$

五、1. $13 - 8 = 5$

2. $15 - 6 = 9$

3. $9 + 7 = 16$

4. (1) 5 8 14 3 (2) $14 - 5 = 9$

(3) 跳绳的比踢毽子的少多少人

(4) 画画的和拍球的共有多少人(灵活)

$3 + 5 = 8$

第一至三单元素养综合练习

一、1. 19 6 2 16 11 12 7 20

15 17 4 13 18 8 19 17

2. < > < > = =

3. 8 4 10(灵活) 9 11 5(灵活)

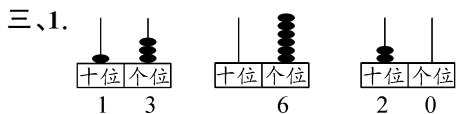
二、1. 15 18 20 14

2. 7 1 20 3. 18 20

4. 15 5. 17 18

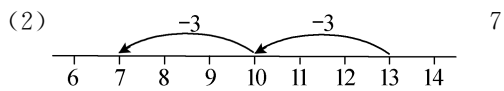
6. 19 17 9 15 19

7. 3 8. 大 小 9. 小平




2. (1)

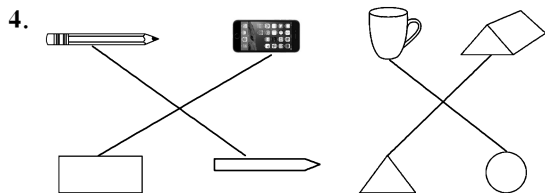
13



7



$8 + 6 = 14$



四、 $8+6=14$ $14-8=6$

$6+8=14$ $14-6=8$

五、1. $5+7=12$ $12-5=7$

2. $5+6=11$

3. $12-3=9$

4. $11-3=8$

六、1. $4+8=12$

2. $11-7=4$

3. $15-6=9$

4. $5+13=18$

5. (1) $14-5=9$

(2) 小明和小龙一共射中多少个 (灵活)

$8+5=13$

第四单元素养综合练习

一、1. 3 7 37 2 4 24 2. 个 十 三

3. 10 10 4. 1 5 5. 七十九 97 6. 十 一

7. $>$ $>$ $>$ $<$ 0 至 47 的数

54 39 或以上的数 28 至 42 的数

8. (1) 55 44 22 (2) 91 93 97

(3) 35 45 50

9. 4 72 20

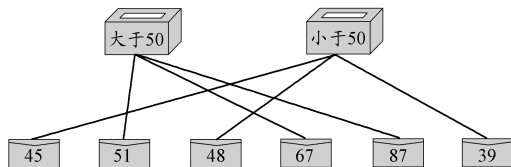
10.

36	37	38
46	47	48
56	57	58

	27	
36	37	38
	47	

二、1. 56 97 99 68

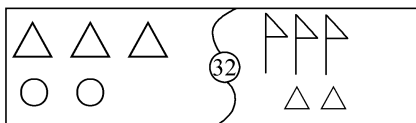
2.



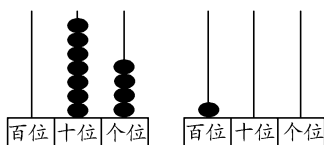
3. (1) 5 2

(2) $80 < 88 < 90 < 98 < 100$

4. (灵活)



5. 3 50



三、1.

我们班捡了40个。



我们班捡了93个。



2. 98 下(✓)

3. 40 本(✓)

4. 25 元(✓) 70 元(○)

5. 88 元(△) 76 元(○)

6. 53 颗(✓) 90 颗(○)

7. (1) 65 人(✓) (2) 限乘客 70 人(✓)

第五单元素养综合练习

一、1. 90 30 20 70 48 84 28 24

100 40 60

2.
$$\begin{array}{r} 22 \\ + 37 \\ \hline 59 \end{array}$$

$$\begin{array}{r} 96 \\ - 51 \\ \hline 45 \end{array}$$

$$\begin{array}{r} 29 \\ + 23 \\ \hline 29 \end{array}$$

$$\begin{array}{r} 9 \\ 79 \\ - 70 \\ \hline 9 \end{array}$$

$$\begin{array}{r} 48 \\ + 45 \\ \hline 48 \end{array}$$

$$\begin{array}{r} 60 \\ 66 \\ - 6 \\ \hline 60 \end{array}$$

3. 31 32 28 51 40 33

二、1. 加 50 2. 82 40 42

3. $<$ $>$ $>$ $<$ $>$ $=$

4.

3	4	1	2
4	2	3	1
2	1	4	3
1	3	2	4

5. 16 6. 37 7. 30 22 56

三、1. ○○○○○○○○○○ $5+4=9$

2. □□□□□□□□ $11-3=8$

四、1. $32+27=59$

2. $96-50=46$

3. $33+24=57$

4. $58-35=23$

五、1. $10+20=30$

2. $56-13=43$

3. (1) $25-23=2$ (2) $25+12=37$

4. ① ③ $70+24=94$ (灵活)

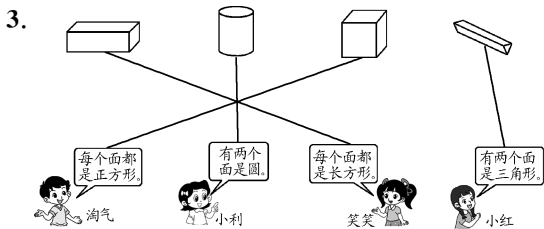
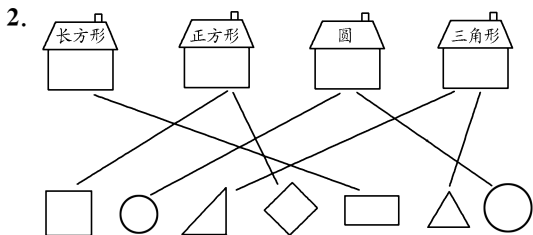
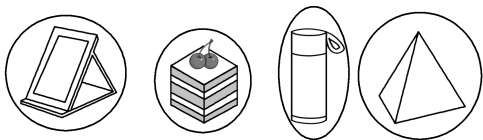
② ④ $81+18=99$

5. 小丽跳了多少下(灵活)

$57-12=45$

第六单元素养综合练习

一、1.



二、1. 长方 三角 正方

2. 4 3. 4 4. 长方 正方 5. 5 4

6. 圆 正方形 7. 三角 长方

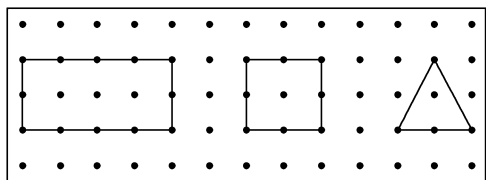
8. 7 (1)3 2 (2)2 2 10

9. 6 6 6

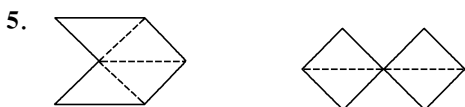
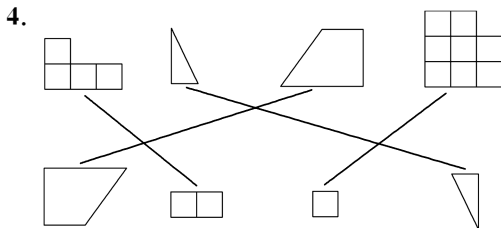
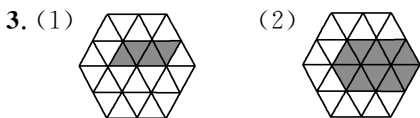
10. (1)3 (2)5 正方 ①

(3)④ ⑦(或③ ⑤)

三、1.



2. (1)4 长方 (2)4 正方 (3)4 三角



四、1. $45 + 12 = 57$

2. (1) $36 + 12 = 48$ (2) $48 - 23 = 25$

3. (1) $48 - 30 = 18$

(2) 华华和红红一共跳了多少下

$$48 + 30 = 78$$

总复习练习

一、1. 7 40 29 39 14 54 25 25

2. $79 + 33 = 112$ $31 - 22 = 9$

$78 + 72 = 150$ $63 - 56 = 7$

$69 + 27 = 96$ $34 - 62 = -28$

二、1. 49 36 2. 7 9 78 80

3. 97 3 4. 10 99 89

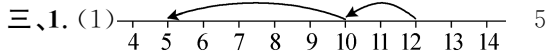
5. $<$ $>$ $<$ $>$ $<$ $=$

6. 35 22 90

7. (1)24 30 32 (2)55 45

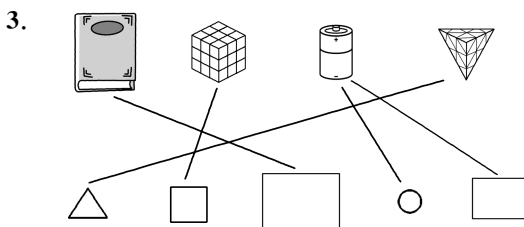
8. (1)3 5 1 1 (2)④ ⑥

9. 46 36(或:26 16)

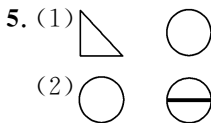


(2) $\triangle\triangle\triangle\triangle\triangle\triangle\triangle$ $11 - 4 = 7$

2. 9 5 5 2



4. 68 下(√) 90 下(○)



四、1. $17 - 13 = 4$ 2. $58 - 32 = 26$

五、1. $23 + 23 = 46$

2. (1) $33 + 14 = 47$ (2) $47 - 15 = 32$

3. (1) $45 - 12 = 33$

(2) 买一双袜子和一个篮球一共要花多少元?

(3) 一个足球比一个篮球贵多少元(灵活)

$$45 - 32 = 13$$