

一年级数学(下册)同步练习、课堂练习及单元素养综合练习

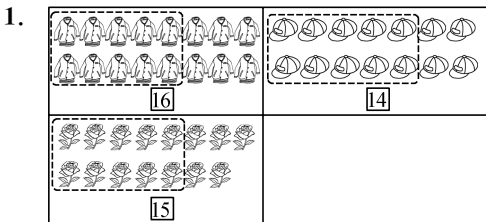
参考答案

《同步练习》参考答案

第一单元 20 以内数与加法

古人计数(一)

▶ 达标训练



2. 一 十 一 十 6 一

3. 16 15 18 20

4.

▶ 拓展训练

17 16

古人计数(二)

▶ 达标训练

1. (1) 13 14 15 16 18 19 20

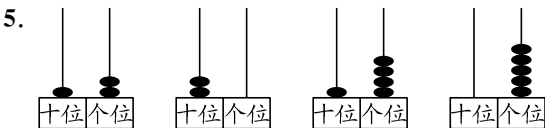
(2) 15 13 11 9 16 18 20

2. 14 17 10 20 19 16 13 15

3. < > > < = > < >

4. (1) 个 十 (2) 13 (3) 8 1

(4) 10 9 11 (5) 20 8, 15, 11



▶ 拓展训练



搭积木

▶ 达标训练

1. $17 - 4 = 13$ $14 + 2 = 16$ $18 - 4 = 14$

2. $3 + 13 = 16$ $12 + 4 = 16$

$5 + 11 = 16$ $6 + 10 = 16$

3. (1) $11 + 5 = 16$ (2) $16 - 4 = 12$

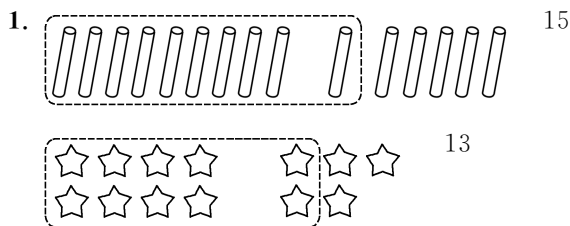
4. $3 + 1 + 13 = 17$

▶ 拓展训练

1. 5 2. 19

开心农场

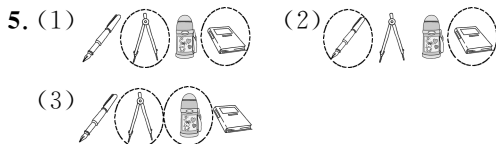
▶ 达标训练



2. 6 9 15 $6 + 9 = 15$

3. 8 4 停车场一共有多少辆车 $8 + 4 = 12$

4. (1) $5 + 7 = 12$ (2) $8 + 3 = 11$

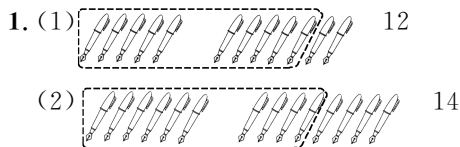


▶ 拓展训练

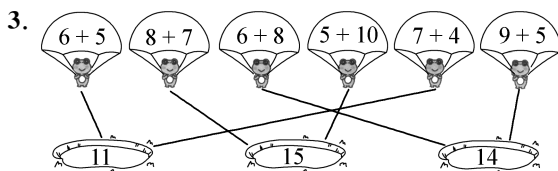
18

一起做家务

▶ 达标训练



2. (1) $7 + 7 = 14$ (2) $7 + 5 = 12$



4. 一共钓了多少条 $6 + 6 = 12$

5. 11 13 6 5 12 14 7 6

▶ 拓展训练

6 7 13

小兔子安家

▶ 达标训练

- 11 11 13 15
1 5 1 3 3 5
- $<$ $<$ $=$ $>$ $>$ $<$
- $7+7=14$
- $3+9=12$ $4+8=12$ $2+10=12$ $5+7=12$
- 13 12 11 12 11 10 12 11 10

1

▶ 拓展训练

$9+8=17$ $4+7=11$

做个加法表

▶ 达标训练

1.	11	9+2	8+3	7+4	6+5	5+6	4+7	3+8	2+9
	12	9+3	8+4	7+5	6+6	5+7	4+8	3+9	
	13	9+4	8+5	7+6	6+7	5+8	4+9		
	14	9+5	8+6	7+7	6+8	5+9			
	15	9+6	8+7	7+8	6+9				
	16	9+7	8+8	7+9					
	17	9+8	8+9						
	18	9+9							

相同 1 多

- 8+8 7+5 9+2 7+8 6+5 9+7
得数大于14 得数小于14

$9+3=12$ $5+6=11$

▶ 拓展训练

7 8

整理与复习

- (1) 12 14 (2) 1 5 1 8
(3) 16 18 (4) 13 (5) 11
(6) 9 (10) (11) 12 13 14 15 (16) 17 (18)

- $9 + 7 = 16$
 $8 + 5 = 13$
 $6 + 7 = 13$

16 13 12 11 12 14

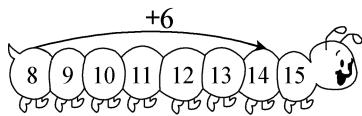
$①$ $③$ $4+8=12$

8 12 2 $7(\text{灵活})$ $11(\text{灵活})$ $9+9(\text{灵活})$

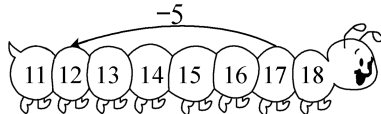
第一单元综合练习

- 18 13 17 20
- (1) 19 (2) 15 17
(3) 十 1 十 个 1 一
(4) 6 8 (5) 6 8
- $>$ $>$ $=$ $=$ $<$ $>$

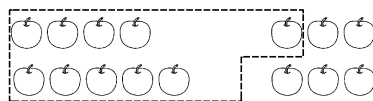
14



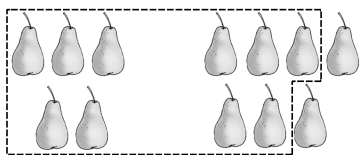
12



$5(1)$ $9+6=15$



$5(2)$ $5+7=12$



$6(1) 8+6=14$ $(2) 15-3=12$

$7. 7+5=12$

$8. 13$ 13 7 13 10 3 13

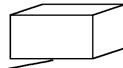
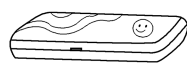
$9. 2+9=3+8=4+7=5+6$

$10. 11$ 17

第二单元 图形大变身(一)

做一做

▶ 达标训练



$3. \text{虫子} \quad \text{小车} \quad \text{雪糕}$

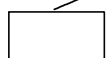
▶ 拓展训练

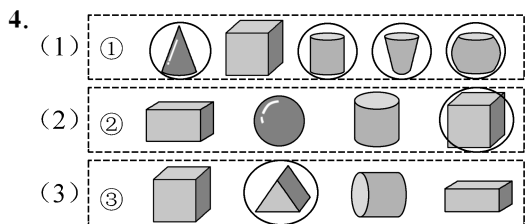
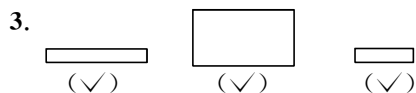
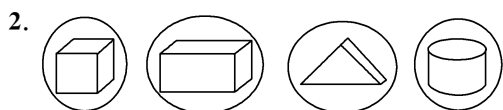
6 5

找一找

▶ 达标训练

$1.$





►拓展训练

14

影子剧场

►达标训练



2. 老鹰 天鹅 狗 狼

3. 小兔 小 大

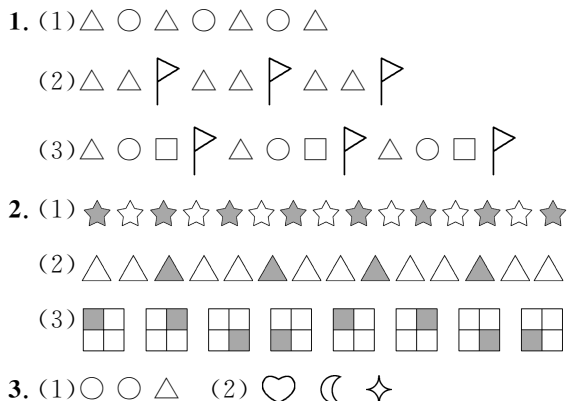
►拓展训练

$6+9+1=16$

综合实践

设计教室装饰图

►达标训练



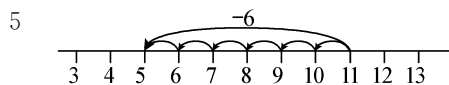
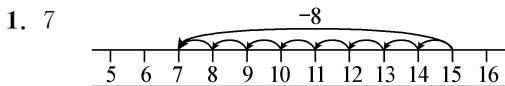
►拓展训练

1. ● 2. ● ● ● ● ○

第三单元 20 以内数与减法

买文具

►达标训练



2. (1) $15-7=8$ (2) $12-8=4$

3. $18-9=9$

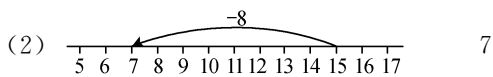
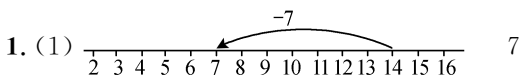
4. $6+9=15$ $15-9=6$ $15-6=9$

►拓展训练

2

捉迷藏

►达标训练



2. (1) $12-8=4$ (2) $13-6=7$

(3) $7+9=16$ $16-7=9$

(4) $6+8=14$ $14-6=8$

3. $14-8=6$

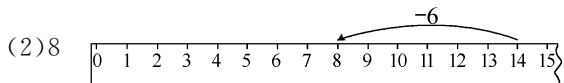
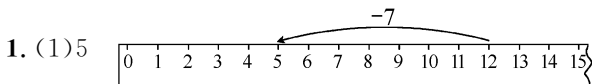
►拓展训练

1. 16 8

2. 14 5 6

凑数游戏

►达标训练



2. 左: 5 6 7 8 中: 5 6 7 8

右: 10 9 8 7

3. $13-7=6$

4. $14-6=8$

►拓展训练

1. $14-7+6=13$ 或 $13-6+7=14$

2. 2

开会啦

▶ 达标训练

1. 5 8 3 8

2. $14 - 7 = 7$

小猫: ○○○○○○○○○○○○○○○

鱼: △△△△△△△

3. $11 - 6 = 5$

4. 14 9 7 8

(1) $14 - 8 = 6$ (2) $14 - 7 = 7$

▶ 拓展训练

8

跳伞表演

▶ 达标训练

1. (1) 5 $11 - 6 = 5$ (2) 5 $11 - 6 = 5$

2. (1) $12 - 7 = 5$ (2) $14 - 8 = 6$

3. (1) $14 - 7 = 7$ (2) $15 - 6 = 9$

4. 11 7 5

(1) $11 - 5 = 6$

(2) $11 - 7 = 4$

▶ 拓展训练

3

试一试

▶ 达标训练

1. 13 12 4

(1) $13 - 4 = 9$ (2) $12 - 4 = 8$

2. 8 8 8 $15 - 6 = 9$ $16 - 7 = 9$ $17 - 8 = 9$

3. $12 - 6 = 6$

4. (1) $11 - 9 = 2$ (个) (2) $11 - 5 = 6$ (个)

▶ 拓展训练

4 2 4

美丽的田园

▶ 达标训练

1. (1) 4 6 13 (2) 9 $13 - 4 = 9$

(3) 7 踢毽子的比跳格子的多几人

(4) 跑步的和踢毽子的共有多少人(灵活)

$4 + 13 = 17$ (人)

2. (1) 女生比男生多几人(灵活)

(2) 送给同学 8 个(灵活)

▶ 拓展训练

1. 8 2. 哥哥 5

做个减法表

▶ 达标训练

1. $5 + 7 = 12$ $6 + 8 = 14$

$7 + 5 = 12$ $8 + 6 = 14$

$12 - 5 = 7$ $14 - 6 = 8$

$12 - 7 = 5$ $14 - 8 = 6$

2. 竖排: 9 8 7 6 5

5 6 7 8 多(少) 少(多)

3. $12 - 4$ $13 - 5$ $14 - 6$ $15 - 7$

$11 - 4$ $13 - 6$ $14 - 7$ $15 - 8$

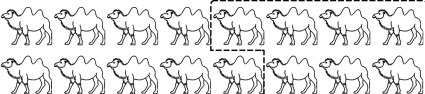
4. $\begin{cases} 15 - 7 \\ 14 - 6 \end{cases} \begin{cases} 13 - 6 \\ 12 - 5 \\ 11 - 4 \end{cases} \begin{cases} 17 - 8 \\ 16 - 7 \\ 15 - 6 \end{cases}$

▶ 拓展训练

$15 - 9 = 14 - 8 = 13 - 7 = 12 - 6 = 11 - 5$

整理与复习

1. (1)  8

(2)  9

2. $\begin{matrix} 13-7 & 12-9 & 16-8 & 11-7 & 15-8 & 12-3 \\ 8 & 7 & 6 & 3 & 9 & 4 \end{matrix}$

3. (1) $12 - 8 = 4$ (2) $12 - 6 = 6$


4. (1) $12 - 5 = 7$

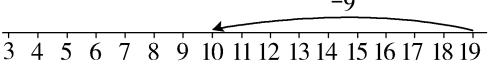
(2) 二组和三组一共多少人 $3 + 5 = 8$

第三单元综合练习

1. (1) 12 12 9 3

(2) $6 + 8 = 14$ $8 + 6 = 14$ $14 - 6 = 8$ $14 - 8 = 6$

2.  5

 10

3. 4 5 9 9 7 8 6 5

4. 8 12 7 6 6 8

5.

7+5

14-7

3+6

15-9

10-2

13-5 19-7 13-6 13-4 11-5

6. (1) $12-6=6$ (2) $15-7=8$

7.

12-9	—共进行了多少次作业评比? ——聪聪比梦梦少得了多少个优? ——梦梦得的优比良多多少个?
12-3	
9+6	

8. (1) 11 4 7 (2) 7 $11-4=7$

(3) 18 $11+7=18$

9. $11-6=5$

10. (1) 8 6 12 (2) $8+6=14$

(3) 踢足球比踢毽子的多几人?

(4) 踢足球比跳绳的多几人 (灵活)

$12-6=6$

第四单元 100 以内数的认识

身边的数

► 达标训练

1. (1) 16 (2) 40 (3) 5 5 30

2. (1) 三十八 四十 四十二

(2) 四十 四十五 五十

(3) 七十 六十 五十 四十

3. 15 12 26

4. 36 80 100

► 拓展训练

35

数一数

► 达标训练

1. 68 52 44

2. (1) 96 97 98 99 100

(2) 23 25 27 29 31

(3) 70 75 80 85 90

(4) 38 48 58 68 78

3. (1) 96 4 (2) 86 14

4. (1) 29 (2) 5

► 拓展训练

43 44

数豆子

► 达标训练

1. 3 3 十 4 4 一

2. (1) 个 十 百 (2) 88 90 (3) 57 3

(4) 6 4

3.

(53)	(100)	40	4
(五十三)	(一百)	(四十)	(四)

4. 十 3 十 个 3 一

► 拓展训练

1. 49 2. 66

谁的红果多

► 达标训练

1. $20>7$ $42>38$ $52<55$

2. (1) 67 或以上的数 0 至 29 的数 0 至 53 的数
96 或以上的数

5 或以上的数 4 或以上的数 5 或以下的数

6 或以下的数

(2) 80 85 88 90 92 99

3. ☐ ☒ ☐

4. (1) 46 (2) 99

► 拓展训练

1. 5 58, 59, 60, 61, 62

2. 96 46

小小养殖场

► 达标训练

1. 多得多 多一些 少得多 少一些

2. 19 元(✓) 24 元(△)

3. 75 朵(✓)

4. 16 秒(✓)

► 拓展训练

笑笑 欢欢 明明 笑笑

试一试

► 达标训练

1. 61 下(○) 98 下(✓)

2. 44 本(✓)

3. 23 37 45 55 80 92

4. 90(○)

► 拓展训练

71

做个百数表

▶ 达标训练

1. (1) 77 55 44 33 22 11

(2) 38 48 68 78 88 98

2. 41 51 91 84 82 80 78

3. (1)

33
42 43 44
53

 (2)

57	58	59
	68	
	78	

 (3)

66	68
	77
86	88

(4)

52
62 63
72 73 74

4. (1) 33 (2) 90 (3) 99

▶ 拓展训练

74

整理与复习

1. (1) 3 6 36 (2) 4 8 48

2. $> > < > >$ 33 56 30 89 100

3. 95 75 45 35 37 38 40

4. 52 下(✓) 72 个(✓)

5. 82 个(○) 28 个(✓) 30 个(△)

第四单元综合练习

1. 3 4 34 4 6 46 5 2 52

2. 34 100 60 3

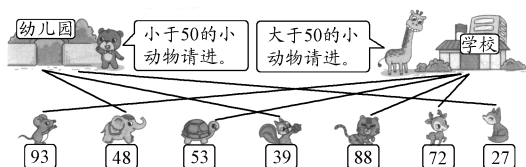
3. $> > < <$

0 至 31 的数 46 或以上的数 17 或以上的数

0 至 79 的数

4. (1) 73 83 (2) 93 91 (3) 80 85

(4) 66 77

5. 

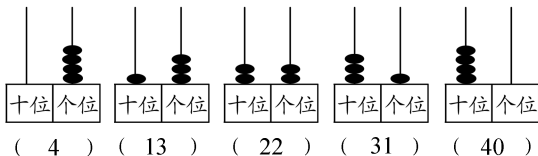
6. 27 42 72 93 100

7. 27 100 10 99

8. (1) 23 张(○) 80 张(✓) (2) 98 分(✓)

(3) 45 人(✓)

9. $26 < 28 < 62 < 68 < 82 < 86$

10. 

数学好玩

填数游戏

▶ 达标训练

1. (1)

2	3	1
3	1	2
1	2	3

1	3	2	4
2	4	3	1
4	2	1	3
3	1	4	2

(3)

1	4	2	5	3
5	3	1	2	4
4	2	5	3	1
2	1	3	4	5
3	5	4	1	2

3	4	5	1	2
2	3	1	4	5
4	5	2	3	1
1	2	3	5	4
5	1	4	2	3

2.

我	习	爱	学
学	爱	习	我
习	我	学	爱
爱	学	我	习

习	爱	我	学
学	我	爱	习
我	学	习	爱
爱	习	学	我

3. 4 1

▶ 拓展训练

4	9	2
3	5	7
8	1	6

第五单元 100 以内数加与减(一)

小兔请客

▶ 达标训练

1. 加数: 40 和: 50 60

被减数: 70 差: 40 10

2. $40 + 30 = 70$ $30 - 10 = 20$

3. (1) $20 + 30 = 50$

(2) $80 - 50 = 30$

4. 小新和小兰一共折了几颗幸运星(灵活)

$30 + 50 = 80$

▶ 拓展训练

1. 10 40 30

2. $20 + 50 - 30 = 40$ 或 $30 + 40 - 20 = 50$

采松果

▶ 达标训练

1. (1) $31 - 5 - 4 = 1$ $30 + 1 = 31$

(2) 72 70 $70 + 2 = 72$

(3) $44 + 5 = 49$ (4) $72 - 50 = 22$

2. (1) $38 - 3 = 35$ (2) $52 + 30 = 82$

(3) 面包车比大客车多几辆

3. (1) $24 + 20 = 44$ (2) $44 - 30 = 14$

►拓展训练

39

青蛙吃虫子

►达标训练

1. (1) $55 - 34 = 21$ (2) $45 + 54 = 99$
2. $43 + 35 = 78$
3. $45 - 25 = 20$
4. (1) $22 + 13 = 35$ (2) $22 + 35 = 57$

►拓展训练

1. 49 2. 31

算一算

►达标训练

1. $\begin{array}{r} \times \\ 52 \\ + 4 \\ \hline 56 \end{array}$ $\begin{array}{r} \times \\ 36 \\ + 23 \\ \hline 59 \end{array}$

2. $43 + 43 = 86$
3. $46 - 32 = 14$
4. (1) $24 + 24 = 48$ (2) $48 - 25 = 23$

►拓展训练

1. 86 2. 2 4 3 2

有趣的算式

►达标训练

1. 54 59 43 10 72 86 41 11 87 85
2. 12 12 12 12 12 12
3. $17 + 71 = 88$ $26 + 62 = 88$ $35 + 53 = 88$

►拓展训练

1. 25 2. 27

回收废品

►达标训练

1. (1) $\bigcirc\bigcirc\bigcirc\bigcirc\bigcirc\bigcirc\bigcirc\bigcirc\bigcirc\bigcirc$ $7 + 4 = 11$
(2) $\triangle\triangle\triangle\triangle\triangle$ $11 - 6 = 5$
2. $42 + 14 = 56$
3. $38 - 12 = 26$
4. (1) 小花钓了多少条鱼
 $27 + 12 = 39$ (条)
(2) 小白钓了多少条鱼
 $27 - 15 = 12$ (条)

►拓展训练

41

整理与复习

1. 80 42 77 20 46 54 24 52
2. $\begin{array}{r} 67 \\ + 64 \\ \hline 67 \end{array}$ $\begin{array}{r} 68 \\ + 43 \\ \hline 68 \end{array}$ $\begin{array}{r} 25 \\ + 43 \\ \hline 68 \end{array}$ $\begin{array}{r} 54 \\ - 5 \\ \hline 54 \end{array}$ $\begin{array}{r} 59 \\ - 5 \\ \hline 54 \end{array}$
3. $45 + 13 = 58$
4. (1) $15 + 31 = 46$ (元) (2) $31 - 20 = 11$ (元)
(3) 买一个蛋糕比买一个汉堡包多多少元?
 $68 - 15 = 53$ (元)
5. 40













第五单元综合练习

1. 80 36 84 66 50 72 16 45
2. $\begin{array}{r} 51 \\ - 35 \\ \hline 51 \end{array}$ $\begin{array}{r} 86 \\ - 35 \\ \hline 51 \end{array}$ $\begin{array}{r} 68 \\ + 28 \\ \hline 68 \end{array}$ $\begin{array}{r} 40 \\ + 28 \\ \hline 68 \end{array}$ $\begin{array}{r} 8 \\ - 61 \\ \hline 8 \end{array}$ $\begin{array}{r} 69 \\ - 61 \\ \hline 8 \end{array}$
3. $\begin{array}{ccc} 42 & 24 & 55 \\ \swarrow & \searrow & \swarrow \\ 76-52 & 66-24 & 32+23 \end{array}$ $\begin{array}{ccc} & & \searrow \\ & & 12+30 \end{array}$ $\begin{array}{ccc} & & \searrow \\ & & 78-23 \end{array}$
4. $= > > < < =$
5. (1) $\bigcirc\bigcirc\bigcirc\bigcirc\bigcirc\bigcirc\bigcirc\bigcirc$ $13 - 5 = 8$
(2) $\triangle\triangle\triangle\triangle\triangle\triangle\triangle\triangle\triangle\triangle$ $8 + 3 = 11$
6. (1) $16 + 23 = 39$ (2) $46 - 30 = 16$
7. $48 - 22 = 26$
8. $35 + 44 = 79$
9. (1) $34 + 5 = 39$ (2) $34 - 4 = 30$
10. $26 + 20 = 46$ (灵活)

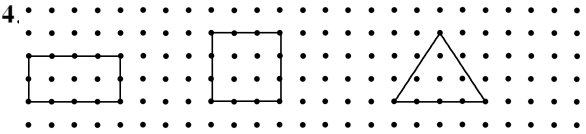
第六单元 有趣的平面图形(一)

认识图形

►达标训练

1. ⑥⑦ ④⑤ ⑨ ②⑩
2. 9 4 8 2

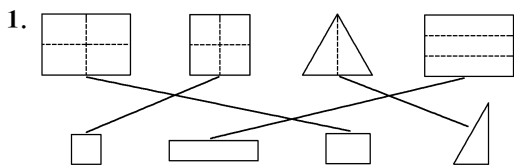


►拓展训练

4 7 5

动手做(一)

▶ 达标训练

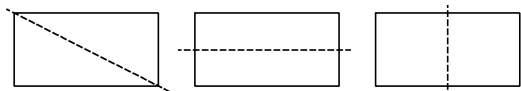


2. 正方形

3. ① ③ ⑤



▶ 拓展训练

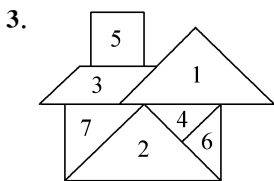


动手做(二)

▶ 达标训练

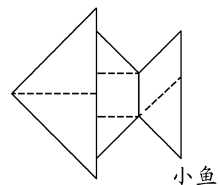
1. 台灯 3 1, 2, 4, 5, 6 正方形 平行四边形
正方形 三角形

2. (X) (X) (√) (X) (X) (√)



4. 小狗 房子 花朵 人

▶ 拓展训练



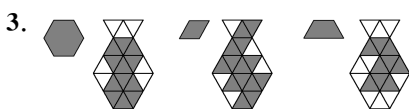
动手做(三)

▶ 达标训练

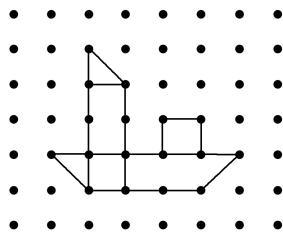
1. 4 5 2 4 5

2. (1)2 正方形 三角形

(2)2 正方形 三角形



4. (灵活)

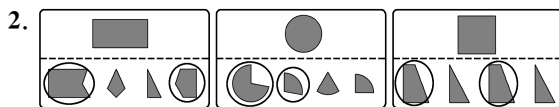
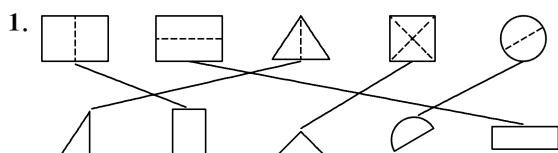


▶ 拓展训练



拼图大挑战

▶ 达标训练



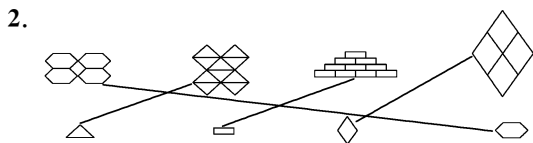
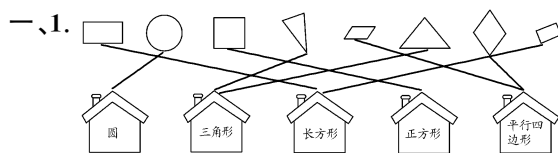
3. ① ② ④ ⑤

4. (1)② (2)① (3)③

▶ 拓展训练

6

第六单元综合练习



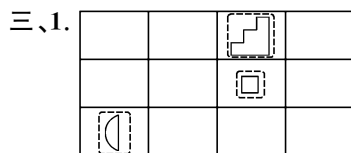
二、1. ② ① ④ ③

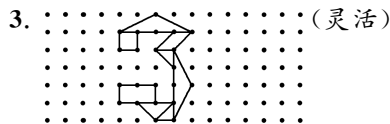
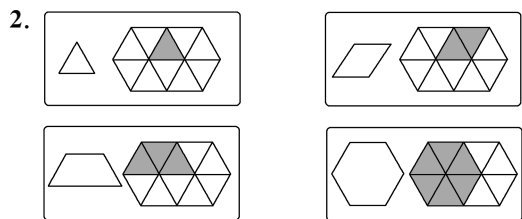
2. (1)三角 长方 正方 三角

(2)① ③ ⑤

3. 正方 长方 4. 正方 5. 4

6. 2 4 2 4





综合实践

画数学连环画

► 达标训练

- 7 只小蝌蚪找妈妈,又来了 5 只,6 只找到了妈妈。
- 还有几只小蝌蚪没找到妈妈?
- $7+5-6=6$ (只)

► 拓展训练

(灵活)

总复习

数与代数(一)

一、1. 6 5 65 32 3 2 4 8 48

2. 92 8

3. 5 个十 5 个一

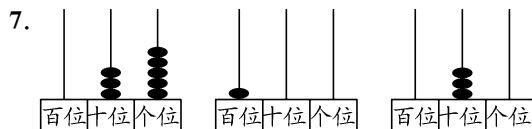
4. 6 93 23

5. 33 99 95 67

6. $> > < <$

0 至 79 的数 25 或以上的数

0 至 52 的数 100



二、1. 50 55 65 70

2. 68 62 60 58 56

3. 55 77 88 99

4.

36	37	38	58	59	60	56	57
46	47	48	68	69	70		67
56	57	58	78	79	80		78
							79

- 三、1.
2. 17 张(\triangle) 35 张(\bigcirc)
3. 74 页(\checkmark)

数与代数(二)

一、1. 8 7 7 4 9 8 9 5

2. 6 6 8 12 6 4 9 17

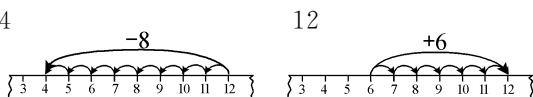
二、1. $7+9=16$ $16-7=9$

2. $8+6=14$ $14-6=8$

3. $14-5=9$ 4. $14-8=6$

5. $40+52=92$ 6. $29-15=14$

三、4



四、1. 12 6 7

(1) $12-6=6$ (2) $12-7=5$

2. (1) $48-7=41$ (2) $41+20=61$

3. (1) 5 9 5 6 (2) $6-5=1$

(3) 一共有多少朵花

(4) 空中的鸟比树上的鸟多几只 (灵活)

$9-5=4$ (只)

数与代数(三)

一、1. 60 0 70 80 30 60 60 60

64 38 92 90 18 36 24 7

2.
$$\begin{array}{r} 79 \\ + 26 \\ \hline 79 \end{array}$$

$$\begin{array}{r} 22 \\ - 56 \\ \hline 22 \end{array}$$

$$\begin{array}{r} 27 \\ + 22 \\ \hline 27 \end{array}$$

$$\begin{array}{r} 3 \\ - 43 \\ \hline 3 \end{array}$$

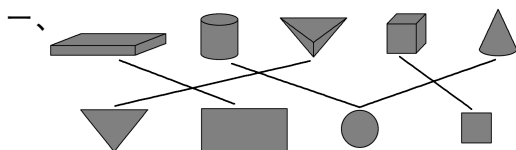
二、1. $\triangle\triangle\triangle\triangle\triangle\triangle\triangle\triangle\triangle\triangle\triangle\triangle\triangle$ $6+7=13$

2. $\bigcirc\bigcirc$ $11-9=2$

三、1. 1 3 4 2 2. 98 74 24

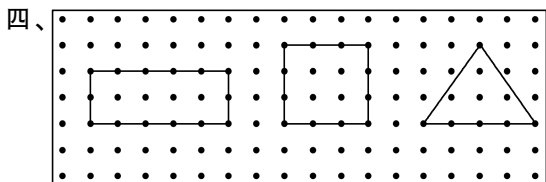
3. 同同比明明少多少分 $98-88=10$ (分)

图形与几何



二、5 4 2 5 5 4

三、①⑦⑫ ②⑨⑬ ④⑤⑧⑪ ③⑥⑩



综合实践

1. (1) $\triangle \square \triangle \square$ (2) $\triangle \triangle \bigcirc$

(3) $\star \bigcirc \bigcirc \bigcirc \bigcirc \bigcirc$

2. (1) $\triangle \square \star \triangle \square \star \triangle \square \star$

(2) $\bigcirc \triangle \triangle \bigcirc \triangle \triangle \bigcirc \triangle \triangle$

3.

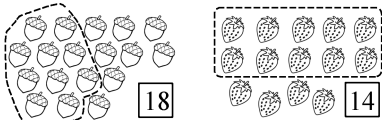
4	2	3	1
3	1	2	4
2	4	1	3
1	3	4	2

4. (灵活)

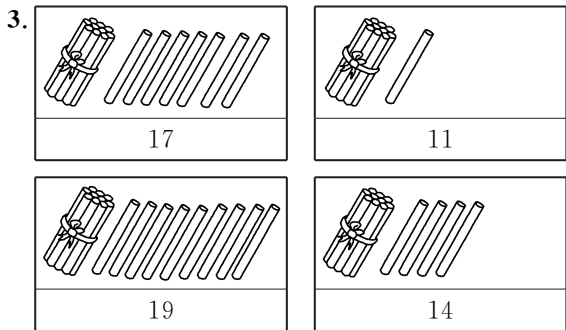
《课堂练习》参考答案

1

1. (灵活)

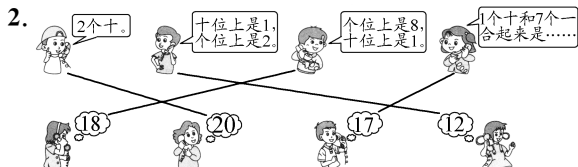


2. 15 1 9 19



2

1. 16 20 12 15



3. (1) 16 16 16

(2) 18 1 8 18 $10+8=18$

(3) 20 20 $10+10=20$

3

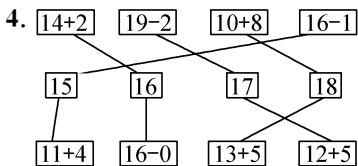
1. 15 3 5 5 15 14 3 4 4 14

2. (1) 17 7 10

(2) $13+4=17$ 或 $4+13=17$

$17-13=4$ 或 $17-4=13$

3. $13+3=16$ $19-4=15$



4

1. (1) 15 5 10

(2) 5 17 17 12

2. $8+11=19$ $13+6=19$

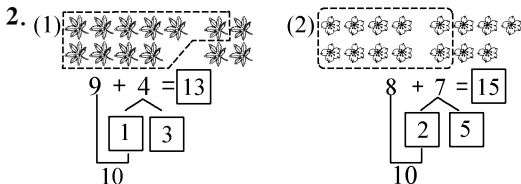
3. 12 18 10 17 15 10 14 16

4. (1) $12+3=15$ (2) $16-4=12$

5

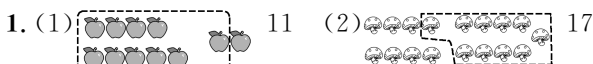
1. 15 13 14 15 6 10 $10+5=15$ 1 5

10 $10+5=15$ 4 5



3. (1) $8+3=11$ (2) $5+7=12$

6



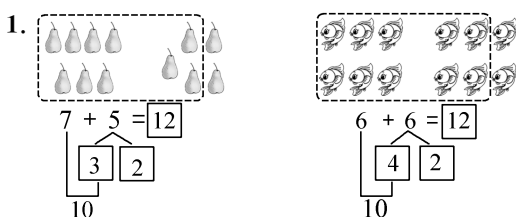
2. (1) $7+5=12$ (2) $15-3=12$

(3) $7+6=13$ (4) $7+9=16$

3. 17 13 13 12

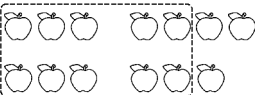
17 13 13 12

7



2. 12 14

3. (1)  $5+8=13$

(2)  $6+7=13$

4. $6+5=11$

8

1. (1)  $5+7=12$

(2)  $6+6=12$

2. 11 3 1 12 2 3 12 4 2

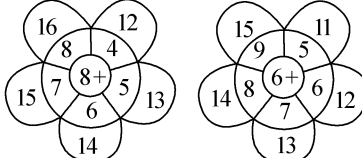
3.

$8+5$	12	$9+6$
$7+8$	13	$7+7$
$9+5$	14	$9+4$
$9+3$	15	$6+6$
$8+4$		$8+6$

4. (1) 15 11 11 11 13 13 14 14

(2) 13 9 6 13 6 4 13 10

9

1. 

2. 12 10 15 17 11 15 11 13 11

3. $3+9=12$ $5+7=12$

$6+6=12$ $8+4=12$

4. (6分) (9分) $6+9=15$

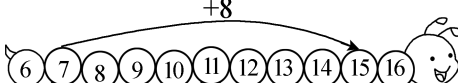
10


1. 9 12 14 13 10

2. 15 13

12 16 12

11 17 11

3. 15 

11 

4. $5+8=13$ $6+8=14$

11

1. 15  16 

2. 5 7 6 10 3

3. 13 19 15 14 14 12 11 13

10 12 12 16 14 12 13 14

11 20 18 17 11 18 10 15

4. 

12

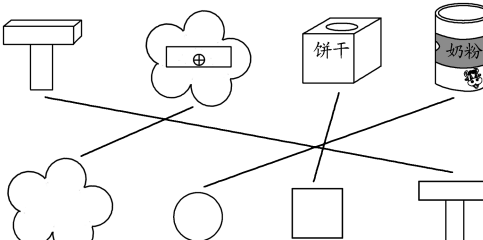
1. 11 11 18 16 14 13 16 11

2. (1) 17 (2) 17 19 (3) 1 4 (4) 1

3. 14 11 14 16 11 12

4. $8+3=11$ $5+6=11$

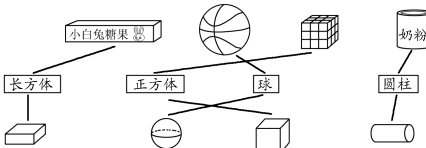
13

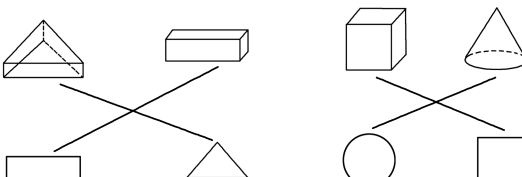
1. 


2. 

3. 房子 鱼

14


1. 

2. 

3. 
(✓) (✓) (✓)

15

1. 狗 兔 茶壶



3. 大 小



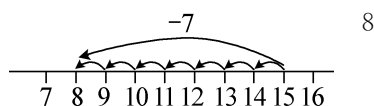
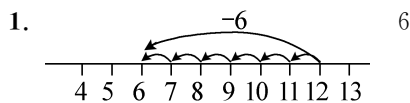
3. (1) ③ (2) ②

1. 3 2 3 3 3 10 $10-7=3$

2. 4 4

3. 13 13 16 15 5 5 7 8
11 11 11 16 2 3 5 8

4. 15 $15-9=6$ $15-6=9$



2. 4 5 8 9 7

3. (1) $16-8=8$ (2) $13-9=4$

4. $14-6=8$

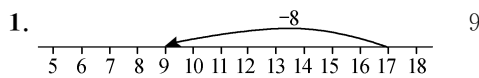
1. 9 3 4 6 7 7 5 8

2. -8 5 -5 -3 5

3. (1) 11 2 (2) $8+6=14$ $14-8=6$

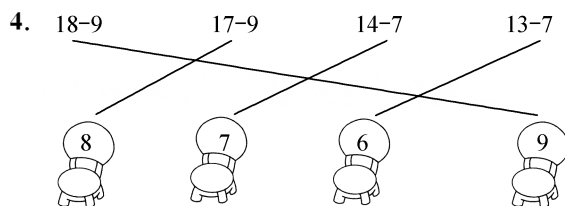
4. 7 6 7 7 6 7

8 7 8 8 7 8



2. 10 5 7 8 5 7 4 7 9

3. (1) $17-8=9$ (2) $15-7=8$



21

1. 9 9 8 8 7 7

6 6 5 5 4 4

2. 8 10 3 6 10 1

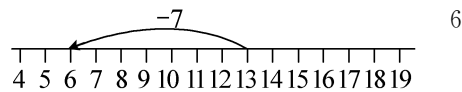
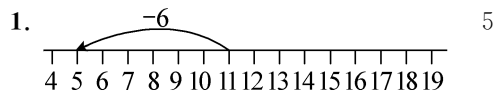
7 10 4

3. (1) $5+6=11$ (或 $6+5=11$)


$11-5=6$ (或 $11-6=5$)

(2) $7+8=15$ (或 $8+7=15$)

$15-7=8$ (或 $15-8=7$)



2. (1) $13-6=7$ (2) $15-7=8$



4. $< = > < > <$

23

1. 12 6 $12-6=6$

2. (1) 4 $11-7=4$ (2) 7 $13-6=7$

24

1. 2 3 4 5 6 5 6 7 8 9

2. 6 $11-5=6$

3. 8 $15-7=8$

4. $13-8=5$

25

1. 3 3 2. 11 6 5 5 $11-6=5$

3. \triangle 3 $11-8=3$ 4. \bigcirc 8 $14-6=8$

5. 4 4 $13-9=4$

26

1. 6 4 7 7 7 9
 2. (1) $11-8=3$ $13-7=6$
 (2) $12-7=5$ $12-6=6$
 (3) $12-5=7$ 羽毛球 7

27

1. 4 5
 2. 4 11 13
 (1) 7 $11-4=7$ (2) 9 $13-4=9$
 3. $11-3=8$ $14-5=9$

28

1. (1) $11-4=7$ (2) $13-5=8$
 (3) $12-4=8$ (4) $15-9=6$

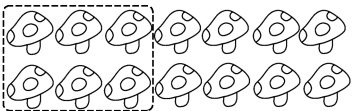

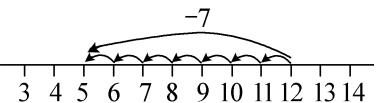
2.

梨比桃子多几个?	$11-8=3$ (个)
苹果和草莓一共有多少个?	$12-8=4$ (个)
桃子比苹果少几个?	$11+5=16$ (个)

29

1. $10-4$ $10-5$ $10-7$ $10-8$
 $11-3$ $11-6$ $11-7$ $11-9$
 $12-3$ $12-5$ $12-8$
 $13-6$ $13-7$
 $14-6$ $14-8$
 $15-7$ $15-8$ $15-9$
 $16-7$
 $17-9$
 相同 相同 相同
 2. $12-3$ $11-2$ $14-5$
 3. $3+9=12$ $12-3=9$ $12-9=3$
 $6+8=14$ $14-6=8$ $14-8=6$

30


1.  8
 8
 2.  5

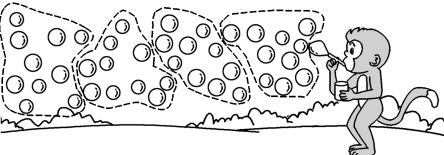
3. 11 4 5


(1) 7 $11-4=7$ (2) 6 $11-5=6$

31

1. (1) 四十九 五十 五十一
 (2) 七十 七十五 八十
 (3) 六十 四十

2. (1)  42

- (2)  41

3.  50

32

- (1) 一百 100 (2) 十 99 1 十
 (3) 10 100 10 (4) 94 6

33

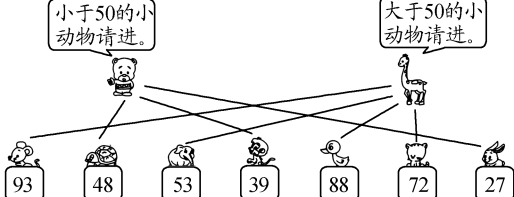
1. (1) 3 4 34 (2) 8 2 28
 (3) 5 2 52 (4) 7 5 75
 2. 24 15 30 44

3.

32	17	23	70
1个十和7个一。	7个十。	3个十和2个一。	个位是3, 十位是2。

34

1. (1) $32 < 33$ $52 > 50$ $41 > 36$ $75 < 100$
 (2) $<$ $>$ $>$ $<$ $<$ $>$ $<$ $>$

2. 

35

1. (1) 35 55 70 100 $>$ $<$ $>$
 (2) 40 90 65 75
 2. 94, 62, 100, 64, 87
 59, 44, 36, 51, 37, 8

3. $< > < > > < = <$
24 79 87 55 20 61 34 100

36

1. 20 张(✓)

2. 鹅比鸡 鸭比鹅 鹅比鸭 鸡比鹅
少得多 多得多 多一些 少一些

3. 48 朵(✓) 45 朵(○)

37

1.



2. 90 下(○) 30 下(✓)

3. 72 个(✓)

4. $94 > 55 > 34 > 23 > 15$

38

1. 1 3 5 7 9

12 14 16 18 20

21 23 24 25 26 27 29 30

31 32 34 35 36 38 39 40

41 42 43 45 47 48 49 50

51 52 53 54 56 57 58 59 60

61 62 63 65 67 68 69 70

71 72 74 75 76 78 79 80

81 83 84 85 86 87 89 90

92 93 94 95 96 97 98 100

(1) 3, 13, 23, 33, 43, 53, 63, 73, 83, 93

(2) 20, 21, 22, 23, 24, 25, 26, 27, 28, 29

(3) 49, 50, 51, 52

(4)

35	36	37
45	46	47
55	56	57

68	69	70
78	79	80
88	89	90

56	57
67	68
78	79

2. (1) 46 50 52 (2) 68 48 38

(3) 45 75 85

39

1. 20 26 30 34 65 85 90 95 100

2.

36	37	38
46	47	48
56	57	58

51	52	53
61	62	63
71	72	73

13	14	15
23	24	25
33	34	35

3. (1) 36, 60, 68 (2) $68 > 60 > 50 > 36 > 6$

4. 92 64 100 33 (灵活)

40

1. 33 50 26

2. 100 98 96 30 40 55
38 40 41 78 72 70

3. 98 分(✓) 4. 35 下(□) 86 下(△)

41

1. (1)

2	3	1
3	1	2
1	2	3

(2)

1	3	2
2	1	3
3	2	1

(3)

3	2	1
1	3	2
2	1	3

2.

1	4	2	3
3	2	1	4
2	3	4	1
4	1	3	2

3	2	4	1
2	1	3	4
4	3	1	2
1	4	2	3

4	2	3	1
3	1	2	4
2	4	1	3
1	3	4	2

3	2	4	1
2	1	3	4
1	4	2	3
4	3	1	2

42

1. (1) $50 + 30 = 80$ 5 3 8

(2) $80 - 20 = 60$ 8 2 6

2. $50 + 20 = 70$

$70 - 30 = 40$

加数 加数 和 被减数 减数 差

3. 7 5 8 70 50 80

6 7 2 60 70 20

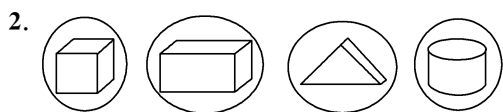
43

1. $30 + 50 = 80$ $30 - 20 = 10$

2. $80 - 50 = 30$

3. 50 60 70 80 90 60 50 40 30 20

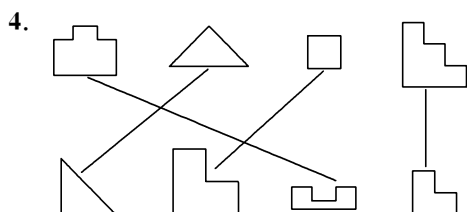
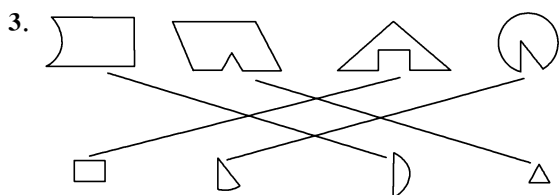
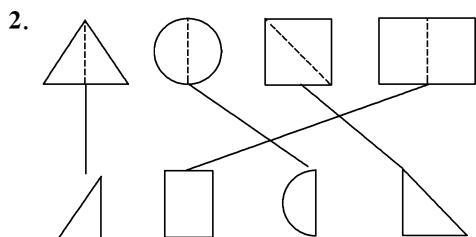
4.



3. 2 4 6 3

55

1. ③⑦ ①④ ②⑤ ⑥



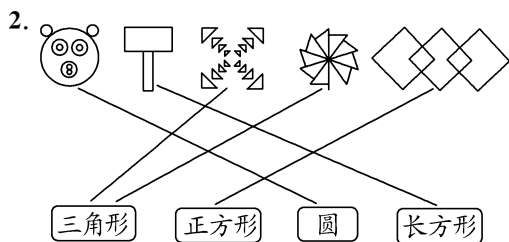
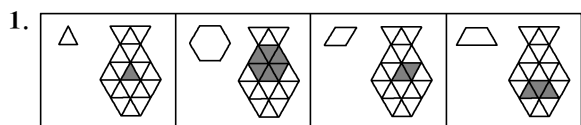
56

1. 5 1, 2, 4, 6, 7 5 3 1 2

2. ④⑤⑥ ①②④⑤⑥⑦

3. 小狗 人 小鸟 小猫 桥 羊 小猫 衣服

57

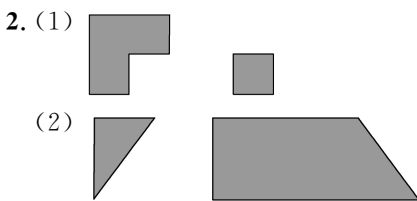


3. (1)
(✓) (✓) (✓)

(2)
(✓) (✓) (✓)

58

1. (1)6 (2)5 (3)4



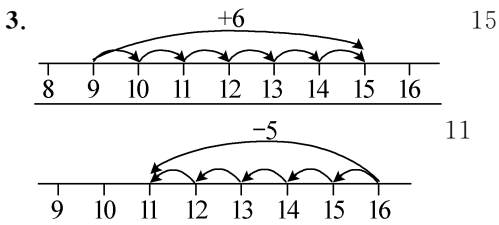
59

1. (1)4 4
(2)现在草地上有几只小鸡?

2. 灵活

60

1. 3 4 34 6 4
2. (1)35 36 39 (2)70 60 55 50
(3)43 (4)88 90 (5)6 76 16



61

1. (1)少 4 $14-10=4$
(2)多 4 $10-6=4$
2. (1) $13-4=9$ (2) $12-5=7$
3. 70 岁(✓)

62

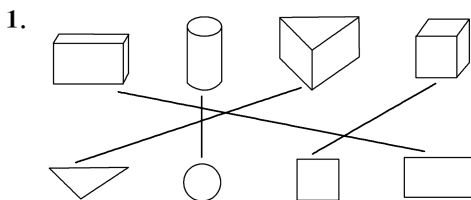
1.
$$\begin{array}{r} 59 \\ +25 \\ \hline 84 \end{array}$$

$$\begin{array}{r} 39 \\ +34 \\ \hline 73 \end{array}$$

$$\begin{array}{r} 52 \\ -26 \\ \hline 26 \end{array}$$

2. $58-36=22$
3. (1) $46-25=21$ (2) $38-15=23$

63

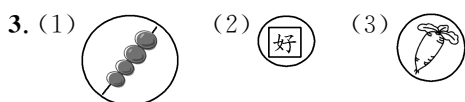
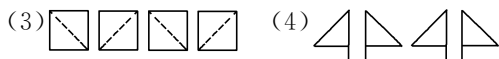
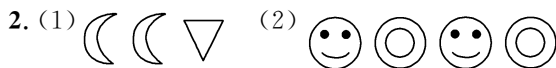
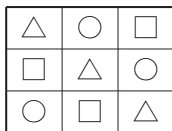
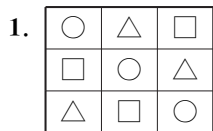


2. 2 7 5 9

3. 长方形:②③ 正方形:①⑧ 三角形:⑦⑨

圆:⑤ 平行四边形:④⑥

64



《单元素养综合练习》参考答案

第一单元素养综合练习

一、1. 12 14 15 20

2. 16 3. 18 13 4. 20 5. 3

6. (1) 12 14 17 (2) 10 12 16

7. 15 8. 16 9. 3

二、1. 12 14 16 10 17 17 13 10
11 0 16 16

2. < > > > < =

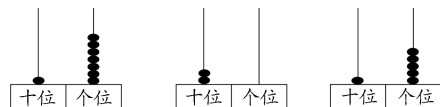
3. 15 6 10

11 以上的数 9 至 15 的数 6 至 13 的数

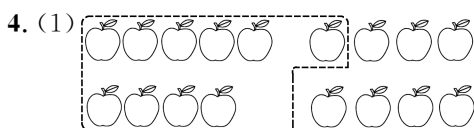
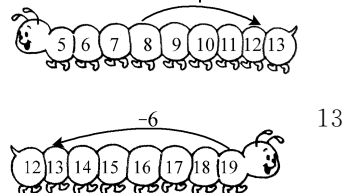
4. $7+6=9+4=10+3=11+2$

$10+5=11+4=12+3=13+2$


三、1.



3. 12



$$9+8=17$$



$$7+5=12$$

四、1. $10+6=16$ 或 $6+10=16$

$16-6=10$ 或 $16-10=6$

2. (1) $8+5=13$ (2) $19-6=13$

五、1. 7 4 11 $7+4=11$

2. $14-4=10$

3. ② ④ $9+7=16$ 或 ① ③ $11+5=16$

4. $7+6=13$

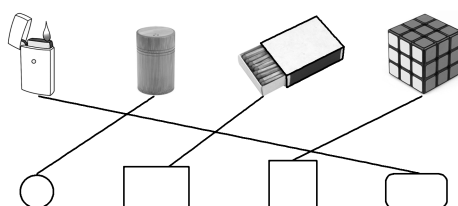
5. (1) $4+7=11$

(2) 小红和小华一共拍了几下(灵活)

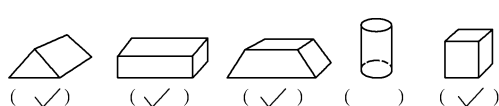
$$9+7=16$$

第二单元素养综合练习

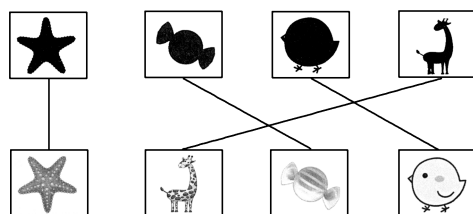
一、1.



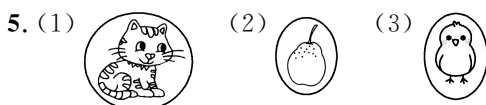
2.



3.



4. 孔雀 小狗 小兔 小鹿



6. (1) ☆ ☆ △ ☆ (2) △ ○ ○ □

二、1. 16 19 20 14 10 12 15 14

16 11 12 14 16 15 12 13

2. 4 7 7 7 3 7

3. $6+6$ $4+8$ $5+7$ $10+2$

三、

14+4 18-2 7+8 19-2

11 12 13 14 15 16 17 18

8+6 7+4 7+5 9+4

- 四、1. $19-4=15$
2. 9 6 15 $9+6=15$
3. $8+7=15$
4. (1) $9+5+4=18$
- (2) $18-8=10$

第三单元素养综合练习

一、1. (1)

8

(2)

3

2.

6

3. 9 4 11 7 3 8 6 8
- 11 9 9 6 8 18 6 7

二、1. $= < > > > <$

2. 9 13 8 9 12 8
3. 12 13 6 14 7 15 8
- 9 7 7 10 4 11 3

4. $6+8=14$ $14-6=8$
- $8+6=14$ $14-8=6$

三、1.

13-7 18-9 16-8 14-7 11-6 12-8

9 5 7 8 6 4

2. 6 $11-5=6$ 4 $11-7=4$

3. (1)

7

- (2) $11-7=4$

四、1. $9+5=14$ 或 $5+9=14$

$14-5=9$ 或 $14-9=5$

2. $5+7=12$ 3. $11-8=3$

4. $14-5=9$ 5. $12-5=7$

五、1. $13-8=5$

2. $15-6=9$

3. $12-7=5$

4. (1) 5 8 14 3 (2) $14-5=9$

(3) 跳绳的比踢毽子的少多少人

(4) 画画的和拍球的共有多少人(灵活)

$3+5=8$

第一至三单元素养综合练习

一、1. 19 6 2 16 11 12 7 20

15 17 4 13 18 8 19 17

2. $< > < > = =$

3. 8 4 6 9 11 6

二、1. 13 14 20 12

2. 7 1 20 3. 18 20

4. 15 5. 17 18

6. 19 17 9 15 19

7. $10-6=4$ $4+4=8$

8. 12

三、1.

1 3 6 1 5 2 0

2.

8

3.

8

$8+6=14$

4.

四、 $8+6=14$ $14-8=6$

$6+8=14$ $14-6=8$

五、1. $5+7=12$ $12-5=7$

2. $5+6=11$

3. $17-6=11$

4. $11-3=8$

六、1. 7 12 $7+12=19$

2. (1) $14-9=5$

(2) $14-8=6$

3. $5+13=18$

4. (1) $14-5=9$

(2) 小明和小龙一共射中多少个? (灵活)

$8+5=13$

第四单元素养综合练习

一、1. 9 5 95 2 4 24 2. 个 十 三

3. 10 10 4. 1 5 5. 26 6. 十 一

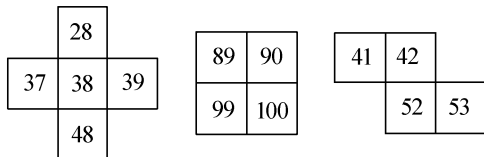
7. $>$ $>$ $>$ $<$ 0 至 47 的数

54 39 或以上的数 28 至 42 的数

8. (1) 44 22 (2) 91 93

9. 4 72 20

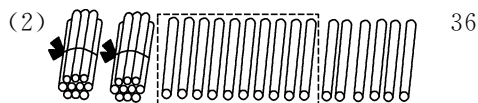
10.



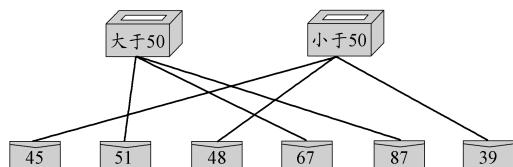
二、1. (1) 32

36

36




2.



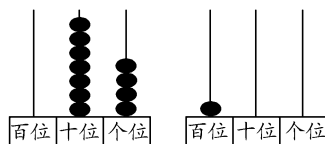
3. (1) 5 2

(2) $80 < 88 < 90 < 98 < 100$

4. (灵活)



5. 3 50



三、1.

我们班捡了40个。



我们班捡了93个。



2. 65 岁(○) 11 岁(✓)

3. 98 下(✓)

4. 40 本(✓)

5. 36 下(△) 92 下(□)

6. 88 元(△) 76 元(○)

7. 9 张(○) 16 张(✓)

8. (1) 65 人(✓) (2) 限乘 70 人(✓)

第五单元素养综合练习

一、1. 50 30 20 70 48 84 52 24

100 40 60

2.
$$\begin{array}{r} 29 \\ + 23 \\ \hline 52 \end{array}$$

$$\begin{array}{r} 87 \\ - 54 \\ \hline 33 \end{array}$$

$$\begin{array}{r} 78 \\ + 63 \\ \hline 141 \end{array}$$

$$\begin{array}{r} 9 \\ 79 \\ - 70 \\ \hline 9 \end{array}$$

$$\begin{array}{r} 48 \\ + 3 \\ \hline 51 \end{array}$$

$$\begin{array}{r} 66 \\ - 6 \\ \hline 60 \end{array}$$

3.
$$\begin{array}{r} 54 \\ + 25 \\ \hline 79 \end{array}$$

$$\begin{array}{r} 67 \\ - 44 \\ \hline 23 \end{array}$$

$$\begin{array}{r} 86 \\ - 84 \\ \hline 2 \end{array}$$

二、1. 加 50 2. 82 40 42

3. $<$ $>$ $>$ $<$ $>$ $=$

4.

1	2	3
2	3	1
3	1	2

5. 37 6. 30 22 56

三、1. ○○○○○○○○○○ $5+4=9$

2. □□□□□□□ $11-3=8$

四、1. $30+40=70$

2. $96-50=46$

3. $33+24=57$

4. $58-35=23$

五、1. $36-5=31$

2. $33+56=89$

3. (1) $25 - 23 = 2$

(2) $25 + 12 = 37$

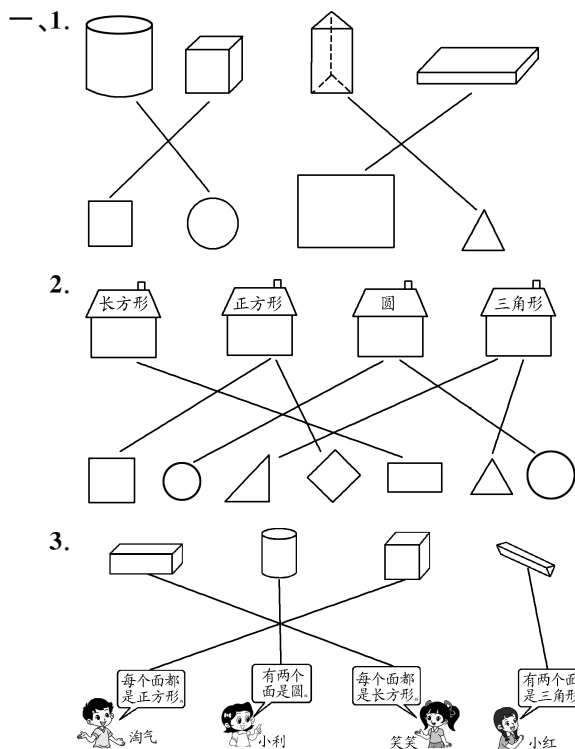
4. ① ③ $70 + 24 = 94$

② ④ $81 + 18 = 99$

5. 小丽跳了多少下? (灵活)

$57 - 12 = 45$

第六单元素养综合练习

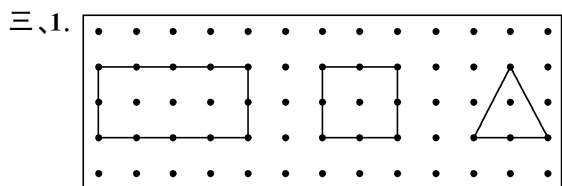


二、1. ②⑥⑧ ③⑦ ①⑤⑨ ④⑩

2. (1) 3 1 2 4 1 (2) 6 6 6

3. (1) 3 (2) 5 正方 ①

(3) ④ ⑦或③ ⑤



2. (1) 4 长方 (2) 4 正方 (3) 4 三角



四、1. (1) $36 + 23 = 59$ (2) $36 - 23 = 13$

2. (1) $36 + 12 = 48$ (2) $48 - 23 = 25$

3. $56 - 13 = 43$

4. $56 - 32 = 24$

总复习练习

一、1. 7 9 82 8 37 54 20 25

77 55 50 25

2.
$$\begin{array}{r} 79 \\ + 45 \\ \hline 79 \end{array}$$

$$\begin{array}{r} 99 \\ - 59 \\ \hline 40 \end{array}$$

$$\begin{array}{r} 78 \\ + 72 \\ \hline 78 \end{array}$$

$$\begin{array}{r} 68 \\ - 5 \\ \hline 63 \end{array}$$

$$\begin{array}{r} 69 \\ + 47 \\ \hline 69 \end{array}$$

$$\begin{array}{r} 85 \\ - 44 \\ \hline 41 \end{array}$$

二、1. 49 36 2. 7 9 78 80

3. 97 3 4. 10 99 89

5. $< > < > < =$

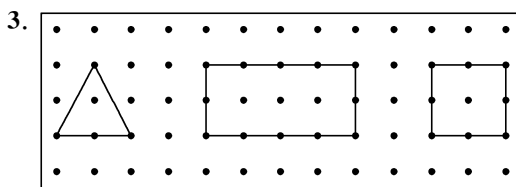
6. (1) 24 30 32 (2) 55 44 33

7. ⑦ ④ ⑤ ② 8. 46 36 或: 26 16

三、1. 7 2 4 3

2. (1) ○○○○○○○○○○○○○○

(2) △△△△△△△



4. 37 朵(✓) 87 朵(△)



四、1. $13 + 32 = 45$

2. $23 + 23 = 46$

3. (1) $33 + 14 = 47$

(2) $47 - 15 = 32$

4. (1) $45 - 12 = 33$

(2) 买一双袜子和一个篮球一共要花多少元?

(3) 一个足球比一个篮球贵多少元? (灵活)

$45 - 32 = 13$